

高雄市立餐旅國民中學 104 學年度教師甄選

歷史科試題卷

【※答案一律寫在答案本上】

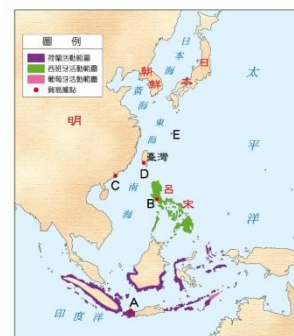
一、單選題（每題 2 分，共 50 分）：

1. 十五世紀到十七世紀是歷史上的「地理大發現時代」，又稱為「大航海時代」，當時歐洲各國紛紛至世界各地從事探險，目的是貿易與殖民。當時歐洲各國在亞洲的據點，與右圖對照何者正確？

(A) A：西班牙 (B) B：荷蘭 (C) C：葡萄牙 (D) D：英國。

2. 下表為摘自《福爾摩沙傳奇：台灣的歷史源流》一書某章節中，有關台南新港及麻豆兩社學校之行程表。請問，此一章節的名稱應為？

- (A) 荷蘭人對原住民的教化和理番
(B) 西班牙對原住民的教育政策
(C) 明鄭時期的原住民教育政策
(D) 日人對原住民的教化和理番。




時 間	課 程 內 容
06：00～08：00	副校長用原住民語言教授耶穌教問答
08：00～09：00	早餐，飯前飯後由學生輪流擔任祈禱
09：00～10：00	講話、習字課
10：00～12：00	校長以原住民方言教授耶穌教問答
12：00	午餐，飯前祈禱，並輪讀原住民方言譯聖書一節
15：00～17：00	教授西洋語
18：00	課程與早餐同

3. 【新聞報導】「該族於清朝時期即有記載，當時稱為簡仔霧於南化玉井一帶活動，後因墾殖勢力受他族群壓迫，陸續遷移至高雄市那瑪夏區達卡努瓦里及瑪雅里一帶迄今，人口數約有 520 人(103 年 5 月數據)。於 2014 年 6 月 26 日由官方承認第 16 個台灣原住民族。」請問，上述新聞報導描述的是下列哪一原住民族？

(A)撒奇萊雅族 (B)賽德克族 (C)拉阿魯哇族 (D)卡那卡那富族。

4. 下兩圖為臺灣史上某兩個時期臺灣產業生活示意圖。請問由前期到後期，臺灣的社會經濟之特色有何轉變？



(A)生活方式轉型為工業化社會 (B)貿易生活轉為以國際貿易為主
(C)生產型態轉為半農半工的社會 (D)後期為中華民國時期。

5. 下列為民國四、五十年代至今代表臺灣工業發展的產業，請問若依出現的時間順序，何者正確？ (甲)鳳梨罐頭 (乙)顯示卡 (丙)大煉鋼場 (丁)大同電鍋。

(A)甲乙丙丁 (B)乙甲丙丁 (C)甲丁丙乙 (D)甲丙丁乙。

6. 漢代是中國歷史上最為強盛的朝代之一，現今中華民族仍以「漢人」自稱。請問：關於西漢與東漢的比較，下列何者正確？

(A)西漢的建國者是高祖劉邦，東漢的建國者是光武帝劉秀

(B)西漢的首都為長安，東漢的首都是洛陽

(C)西漢時班超降服匈奴，東漢時北匈奴被迫西遷

(D)西漢的張機著有《傷寒雜病論》，東漢的華佗被尊為「醫聖」。

7. 喜愛歷史的雪舞研究中國歷史上某個朝代之後，做了以下的結語：

總而言之，這個朝代是中國最具世界主義色彩的朝代。政治上，皇帝因打敗了強敵東突厥，曾被周邊民族尊為國際盟主；社會上，……；宗教上，因對自己的文化具有自信與安全感，對信仰自由給予保障，許多宗教傳入，是一段充滿光輝的時期。

文中的「……」部分，最適合填入下列哪一段敘述？

(A)朝廷宣揚漢人文化，積極推行各種改革措施，如斷北語、通婚姻

(B)朝廷為了方便管理，將人民區分為四個不同階級，訂定各種規範

(C)朝廷對於各種族一視同仁，許多留學生與外國人前來學習、定居

(D)朝廷有感於西方國家科技先進產業發達，禮聘外國人士來華指導。

8. 《來自星星的你番外篇》外星人督敏俊教授在19世紀末來到中國，當時正值清朝末年列強侵略中國，中國被迫簽下不平等條約…。

請問關於清末不平等條約的敘述，下列何者正確？

(A)中英南京條約喪失中國主權，如：領事裁判權、協定關稅、租界、片面最惠國待遇等等。

(B)中英法北京條約，開放長江沿岸及臺灣的通商口岸，使外國勢

力由沿海深入內陸。

(C)中日馬關條約，允許日人在各通商口岸設廠製造，列強依領事裁判權也在中國設廠。

(D)辛丑和約允許各國軍隊在北京使館區駐兵，種下中日戰爭爆發的遠因。

9. 婷婷老師講述某一帝國歷史時說：「這個國家軍事興盛時，攻城滅敵，占領君士坦丁堡，以其為首都，並建立了橫跨三洲的帝國，將帝國占領下的許多教堂改為清真寺。後來國勢漸弱，到了十九世紀面對列強的侵略威脅，只能任人宰割。」此帝國是下列哪張疆域圖？



10. 世界歷史上的大事，常常互為因果。若從歷史事件的因果關係加以推論，下列何者錯誤？【中國東漢攻打(A)→(B)民族向南遷徙→導致(C)帝國滅亡→西歐歷史進入(D)時代。】

(A)匈奴 (B)日耳曼 (C)東羅馬 (D)中古時代。

11. 下表是一場戰爭之中各國人口損失的統計，請問這場戰爭是：

國家	百分比(%)	國家	百分比(%)
波蘭	20	德國	6.6
南斯拉夫	12.5	法國	1.3
希臘	7	英國	0.8
蘇聯	9		

(A)第一次世界大戰 (B)第二次世界大戰

(C)克里米亞戰爭 (D)三十年戰爭。

12. 在台灣政治民主化的歷程中，雷震(1897-1979)是相當重要的人士。以下有關雷震的敘述，哪一項是錯誤？

(A)他曾創辦《自由中國》半月刊，以胡適為發行人。

(B)《自由中國》半月刊，鼓吹自由主義、民主反共不遺餘力，成為當時銷量最大的政論刊物。

(C)他聯繫大陸籍政治精英與台灣籍地方精英，籌組「中國民主黨」。

(D)「中國民主黨」組成後，政府即以「知匪不報」及「為匪宣傳」罪名將他判刑十年入獄。

13. 「給我一立足點，我將移動世界」，這句話最有可能出自於何人之口：

(A)牛頓(Newton)

(B)哥白尼(Copernicus)

(C)達文西(Leonardo da Vinci) (D)阿基米得(Archimedes)。

14. 畢卡索的哪幅畫作代表了西方藝術史上立體派繪畫的誕生？

(A)亞維儂姑娘 (B)伊卡拉斯的墮落 (C)三個舞蹈者 (D)格爾尼卡。

15. 一個人在日記中敘述：「國會正在討論：學生是否應當停授希臘文及拉丁文，改學德文或英文。林蔭大道上裝設了最早期的電力街燈。以中產階級與自由派為骨幹的第三共和已有二十年歷史，主張復辟的、主張貴族政治的、主張社會主義的，左右夾攻政府。」根據你的歷史知識，這個人生活在何時何地？

(A)1917 年的維也納

(B)1898 年的紐約

(C)1857 年的倫敦

(D)1892 年的巴黎。

16. 清代台灣某位民變領袖被朝廷逮捕後，供稱：「去年知府王珍攝理鳳山事，他不曾去，令伊次子去收糧，每石要折銀七錢二分，百姓含怨。續因海水泛漲，百姓合夥謝神唱戲。伊子說眾百姓無故拜把，拏了四十餘人監禁，將給錢的放了，不給錢的責四十板，又勒派騷擾不已。」請問這位領袖應該是下列哪一位？

(A)戴潮春

(B)張丙

(C)林爽文

(D)朱一貴。

17. 一份歷史文獻記載台灣總督府的施政方針「為了教化善導，應先致力於教育之普及，一方面啟發其智能德行，一方面使其感受到我朝廷撫育蒼生之精神與一視同仁之聖旨，使其能純化融合，並在與內地人之社

會接觸時，達到無任何差異之地步，最終使其能進入政治平等之域。」請問此一施政方針應該是下列那一人物有關？

(A)兒玉源太郎 (B)田建治郎 (C)小林躋造 (D)後藤新平。

18. 繁華的佛羅倫斯發生一場瘟疫，七位女性和三位男性到郊區別墅躲避瘟疫，除了唱歌跳舞之外，大家決定每人每天講一個故事來渡過酷熱的日子，針對這些故事及當時背景，以下何者為非？

(A)為方言文學的代表，對歐洲文學影響甚大，是短篇小說的先河

(B)內容揭露教會的黑暗和腐敗，諷刺教士的奸詐和偽善，遭教會打擊

(C)此書為但丁的《神曲》，記載眾生相、鄉野傳說以及宗教故事

(D)佛羅倫斯貿易興盛，人文主義在此發源，之後往北方發展。

19. 一位歷史人物曾獲得這樣的評價：「他在位數十年，為帝國留下深遠的影響；此後幾個世紀，帝國在法律、教會、政治、外交各方面，直接或間接，都受他的影響；……可是，他一生最大的理想『復興羅馬帝國』則完全失敗。他臨終之際，帝國財政幾致破產，苛捐雜稅之多實非人民所能負擔。同時，用兵西方，使東方邊陲之防禦因而削弱……如果他能貫注其精力於東方，而不求『古羅馬帝國』之收復，帝國的歷史或許就要改寫了」。根據敘述你認為這是哪一個帝王？

(A)查理曼 (B)奧里略 (C)查士丁尼 (D)君士坦丁。

20. 一本書提到「施里曼所挖掘到的那些精美物品，並不是希臘城市裡的國王們自己的發明，漂亮的器皿和有狩獵畫像的匕首、金盾牌和頭盔、大廳牆壁的裝飾品和彩色畫像，所有這些東西並非最早產自希臘，也不是特洛伊，而是在○○」；「你也許還記得兇惡的人身牛首的傳說，他一半是人，一半是公牛，坐在迷宮裡，希臘人必須獻祭人給他，你知道，這發生在什麼地方嗎？正是在○○」。

請問○○是指哪一個文明呢？

(A)克里特 (B)西臺 (C)腓尼基 (D)埃及。

21. 朝廷討論調兵征討某地的叛亂，某官員說：「這些地方軍隊平時自行抽的稅就足以養兵，當朝廷命令他們出兵時，卻又向朝廷要糧要餉，討伐時又常藉故遲緩不前，甚至和叛賊勾結。要動員這些軍隊必須審慎，否則只是多耗錢財而少功效。」這位官員最可能是：

(A)范仲淹 (B)李鴻章 (C)衛青 (D)李德裕。

22. 下圖是清末三場重大的動亂分布圖，依據動亂開始的先後順序選出正確選項



(A) 甲乙丙 (B) 甲丙乙 (C) 乙甲丙 (D) 乙丙甲。

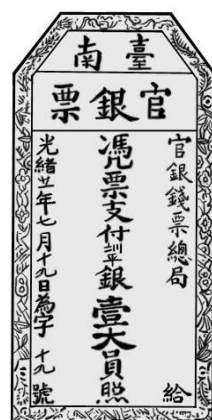
23. 傳教士馬偕對於台灣貢獻極大，而在他的回憶錄中提到，這一場戰爭對於他的傳教造成極大的困擾，除了許多信徒因此波及被殺害外，在台的教堂也慘遭破壞。所幸事後馬偕得到政府賠償一萬銀元，使他可重建更多新教堂。最後馬偕引用聖經「焚而不燬」來評論這段經歷。請問這是哪場戰爭呢？

(A) 牡丹社事件 (B) 中法戰爭 (C) 鴉片戰爭 (D) 台灣民主國抗日。
24. 有本臺灣地方志提及某地的築城：「他們蓋的城很小，根本就不能算是城……但他們有好的船隻，也善用火砲，所以雖然軍隊數量不多，但各地的原住民都聽命於他們。他們又在城外設立市場，福建沿海商人頻繁前來和他們貿易」。這應是哪一次的築城活動？

(A) 西班牙人在基隆地區築城貿易 (B) 荷蘭人據臺時在安平地區築城
(C) 鄭成功復臺後修築的承天府城 (D) 英國人在淡水地區修築紅毛城。

25. 圖(1)為某時期台灣發行的「臺南官銀票」，依其票內容，推測當時發行的政府是？

圖(1)



(A) 清朝政府
(B) 日本總督府
(C) 大明慈悲國
(D) 台灣民主國。

二、簡答題：15%，每題 3 分

1. 請先閱讀下面的三段資料。

資料一「如果漢人、南人有父親死後，娶其父之妾者，或是哥哥死

後，弟弟取其寡嫂者，一律要加以禁止。」

資料二「凡我國人及諸部之人既然誦讀周禮，就應當尊敬父親之眾妾，敦厚人倫之道。」

資料三「凡我國家本族之人，應當教之以禮，如果仍循原有習俗，不守三年之喪，又娶其父親之妾、叔父或兄長所遺之寡婦者，恐怕會讓後人訕笑，必須加以改革，用禮法加以規範。」

請問：三段資料討論的情況最可能發生在哪一個朝代？

2. 有一篇文章指出：『台灣在某個年代出現一批文學作家，在其小說中表現出小人物的悲苦，卻又賦予這些人物不可侵犯的堅毅形象，不但說出臺灣基層人民的心聲，反對各式的威權壓迫，也成為臺灣鄉土文學共同的特色。但是這樣的文學引發了一場文學論戰，因為看在某些以統治者為依歸的「主流文人」眼中，是相當「不健康」的，而且是在醜化社會。』請問：此文學論戰發生在西元什麼年代？
3. 資料甲：「規模太廣，志氣太銳，包攬太多；同志太孤，舉措太大」，所以失敗。資料乙：「不穿洋布，不用洋火，誠心用功，可避刀劍…興大清，滅洋教！」甲、乙各代表清代的什麼事件？
4. 歐洲史上曾有一段時期，「國王在各郡，宣布收割工和工人收費不得超過過去他們所收的，否則依法懲罰。可是工人們卻傲慢而執意不顧國王的命令，表示如果有人要雇用他，就得依他們所開的工資，雇主只有在喪失穀物和滿足工人的貪心兩者中擇其一。」請問這種情形是因為何項因素造成的？
5. 日治時期主導台灣縱貫鐵路興建的民政長官是誰？

三、問答題：每題 5 分，共 15 分

1. 治警事件

2. 九十五條論綱

(Disputatio pro declaratione virtutis indulgentiarum)

3. 關隴集團

四、申論題，每題 10 分，共 20 分

1. 佛教是世界三大宗教之一，同時也是華人世界信仰人數最多的宗

教。請針對歷史上佛教的創立、傳播、在中國的發展，以及對台灣的影響等等，做有系統的論述。

2. 清朝在極盛時期對外宣布實施鎖國政策，而日本在幕府時期也曾有過相同的政策，請比較清朝與日本在鎖國政策的背景，政策內容上的差異以及鎖國後造成的影響為何。

