


桃園縣 102 年國民中學新進教師甄選【專門科目：童軍】試題卷

- ※注意事項：1、答案請畫在答案卡上，如寫在試題卷上一律不計分。
2、作答完畢，請將試題卷及答案卡一併交回。
3、本試題卷共 3 頁。

單一選擇題：請依照題意，從四個選項中選出一個正確或最佳的答案（共 50 題，每題 2 分，合計 100 分）

- 微調課綱中，為落實綜合活動學習領域課程目標，宜掌握教學要領，下列何者為非？
(A) 實踐體驗所知 (B) 省思個人意義
(C) 擴展人際關係 (D) 鼓勵多元與尊重
- 九年一貫課程能力指標中，四個層級的轉化歷程是：
(A) 由單元行為目標轉化為單元活動目標，再轉化為主題活動目標，後轉化到能力指標。
(B) 由能力指標轉化為單元活動目標，再轉化為主題活動目標，後轉化到單元行為目標。
(C) 由能力指標轉化為主題活動目標，再轉化為單元活動目標，後轉化到單元行為目標。
(D) 由能力指標轉化為主題活動目標，再轉化為單元行為目標，後轉化到單元活動目標。
- 下列敘述何者錯誤？
(A) 榮譽議庭（簡稱C.O.H）是一種訓練方式
(B) 榮譽議庭（簡稱C.O.H）是由團長、副團長、聯隊長、小隊長或資深副小隊長組成
(C) 榮譽議庭（簡稱C.O.H）裡團長擁有表決權而無否決權
(D) 團的重要活動及全年活動計畫都必須經過榮譽議庭（簡稱C.O.H）討論
- 小隊長訓練是小隊制度的基本運行方法，下列何者不是訓練方式？
(A) 在小隊長會議時可利用短暫時間給予訓練
(B) 團集會裡召集小隊長訓練
(C) 縣市童軍會籌設的小隊長訓練營
(D) 在訓練營中由聯隊長正確教導或示範
- 颱風中心的等壓線上，最可能為標示下列何組數字？
(A) 88 (B) 48 (C) 28 (D) 08
- 
這組旗語電碼為何？
(A) 4609 (B) 0649 (C) 3507 (D) 3508
- 露營升旗時，如果同時要升國旗、世界旗、團旗，則面向旗子（學員的位置）這三根旗竿的擺放位置由左而右之順序為：

- (A) 國旗→世界旗→團旗
(B) 世界旗→國旗→團旗
(C) 團旗→國旗→世界旗
(D) 國旗→團旗→世界旗
- 世界童軍徽章中，中間為光明之花（fleur-de-lis），花上三尖意為童軍哪三方面？
(A) 對神、對己、對人 (B) 智、仁、勇
(C) 求真、求善、求美 (D) 對人、對事、對物
- 童軍營火結束後使用的「晚禱」旋律緣自於
(A) 巴特菲爾德—搖籃曲
(B) 德佛札克—新世紀交響曲
(C) 貝多芬—月光奏鳴曲
(D) 韓德爾—彌賽亞
- 就綜合活動學生學習成就表現標準對照經驗學習圈而言，學生能力通過應為？
(A) 體驗到觀察反思階段
(B) 觀察反思到歸納通則階段
(C) 歸納通則到實踐階段
(D) 實踐到再體驗階段
- 升團典禮是一個很有意義的儀典，下列敘述何者錯誤？
(A) 升團儀式較適合於幼童軍集會開始前及童軍團集會結束後。
(B) 儀式應莊嚴而愉快，如果幼童軍不能參加童軍團可改為歡送他的離團。
(C) 幼童軍集合時在童軍團一端成「活動圈」，團長在圈的中央。
(D) 全體的幼童軍向升團者歡呼「WOLF、WOLF、WOLF」三聲。
- 於 1919 年 7 月 25 正式啟用國際童軍訓練中心，從此成為本章訓練的發祥地，是指何處？
(A) 玫瑰園（Rose Park）
(B) 阿路伊公園（Arrowe Park）
(C) 極偉園（Gilwell Park）
(D) 白浪園（Poole Park）
- 本章的核發登錄是由哪一個單位？
(A) 國家研習營 (B) 中國童軍總會
(C) 縣市童軍會 (D) 以上皆可
- 到哪裡旅行最不適合使用指北針？
(A) 恆春 (B) 赤道地區 (C) 冰島 (D) 印度
- "Scouts in special needs"是專為身體有缺陷（如盲、啞等）的青少年及兒童所設。在台灣這類童軍常翻譯成
(A) 國花童軍 (B) 自強童軍
(C) 殘障童軍 (D) 長青童軍

16. 世界童軍運動組織揭櫫「童軍之環境責任」的四大目標為：

- (A) promotion, protection, conservation, sustainability
- (B) plantation, protection, recycling, sustainability
- (C) promotion, protection, protestation, recycling
- (D) plantation, protestation, conservation, sustainability

17. 以下哪種制度是為適度因應青少年的成就慾，使其在愉快的活動中樂於追求目標，產生進取心：

- (A) 小隊制度
- (B) 徽章制度
- (C) 榮譽制度
- (D) 晉級制度

18. 世界童軍運動組織的願景：

- (A) Scouting for all
- (B) Be Prepared
- (C) Scouting for Life
- (D) Creating a better world

19. 童軍名稱、制服、徽章、儀典屬於童軍的

- (A) 口號 (Slogan)
- (B) 隱喻 (Metaphor)
- (C) 信物 (Token)
- (D) 象徵體系 (Symbolic Framework)

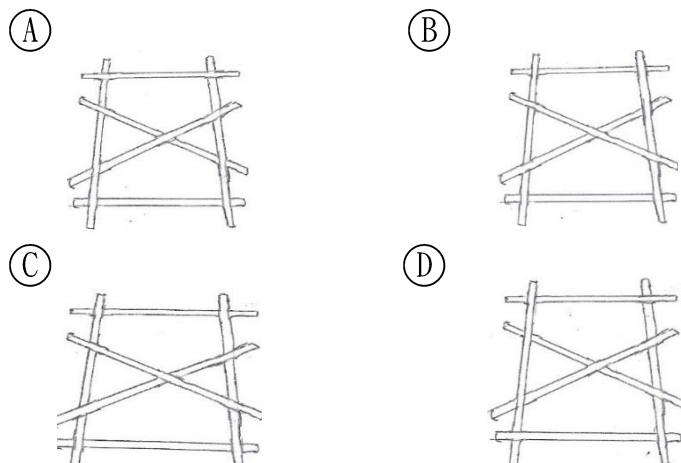
20. 我國總會中負責執行「世界童軍服務獎章」的單位：

- (A) 活動委員會
- (B) 人力資源委員會
- (C) 國家訓練營
- (D) 羅浮暨青年委員會

21. 關於異物哽到時之急救處理，以下何者正確？

- (A) 哈姆立克法適用於患者陷入昏迷時
- (B) 胸部擠壓法不適用於肥胖或懷孕者
- (C) 哈姆立克法即為腹部擠壓法
- (D) 以上皆非

22. 以下何者為戰車的正確搭法？



23. 中風的可能症狀及急救處理方式，以下何者為非？

- (A) 患者呼吸困難
- (B) 患者瞳孔大小左右不一
- (C) 應讓患者平躺，但頭肩略墊高
- (D) 應讓患者引用少量開水，保持喉嚨濕潤

24. 目前世界童軍領袖會議關於選舉及重大議題之投票制度，是採取：

- (A) 聯合國制：每個國家相同票數
- (B) 聯邦制：和每個國家童軍人口數大約成一定比例
- (C) 貢獻制：依每個國家繳交之會員費數大約成一定比例
- (D) 代表制：由選出之世界委員和議

25. 我國曾經承辦過哪類“World Event”？

- (A) 世界大露營
- (B) 世界領袖會議
- (C) 世界羅浮大會
- (D) 世界青年論壇

26. 截至目前，我國唯一獲選擔任童軍「世界委員會」委員的是以下哪位先生？

- (A) 趙守博
- (B) 徐觀餘
- (C) 高銘輝
- (D) 楊朝祥

27. Nagy 在「二億五千萬童子軍」(1986)一書中指出白浪島 (Brownsea Island) 露營時，貝登堡最想知道的是哪一個童軍原理？

- (A) 露營的價值
- (B) 做中學
- (C) 徽章制度
- (D) 小隊原動力

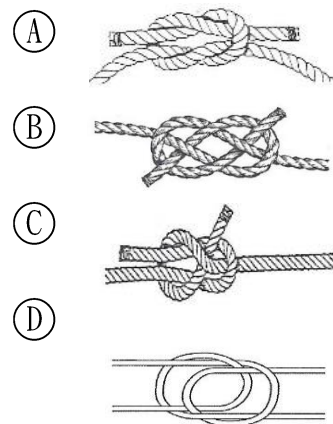
28. 關於童軍教育方法 (scout method)，以下何者不在 WOSM 所列的基本元素中？

- (A) 以大自然為學校 Nature as the learning school
- (B) 做中學 Learning by doing
- (C) 創新思考 innovating thinking
- (D) 成人支援 adult support

29. 宗教童軍在我國童軍人口的成長上所佔地位日趨重要。目前在人數及成長都佔最多的是那個童軍組織？

- (A) 佛光童軍
- (B) 慈濟童軍
- (C) 基督教青年會童軍
- (D) 天主教青年會童軍

30. 以下何者是花聯結：



31. 中華民國童軍文教基金會出版貝登堡原著的《童軍手冊》書名頁中副標題清楚地標示了這是一本：

- (A) 「善用諾言規律銘言以養成良好童軍習慣的手冊」
- (B) 「善用生創意的思考以養成良好童軍技能的手冊」
- (C) 「善用山林生活的訓練以養成良好公民的手冊」
- (D) 「善用童軍教育以養成綜合活動領域能力的手冊」

32. 「第 30 次亞太區童軍大露營」在哪一年？哪個國家辦理？

- (A) 2012 年／台灣
- (B) 2013 年／日本
- (C) 2012 年／韓國
- (D) 2013 年／馬來西亞

33. 你若參加一個追蹤旅行活動，看到設定好的 [5]→ 的記號，它是：
- (A) 前進記號：往前前進五公尺
(B) 小隊記號：第五小隊所在處
(C) 藏信記號：文件藏匿在距離箭頭方向大約五步處
(D) 營地記號：第五頂帳棚所在的方向
34. 農業生活中常依循節氣調整作息，請問「穀雨」主要在
哪個時節？
- (A) 國曆 1 月 19-21 日其中一天
(B) 國曆 4 月 19-21 日其中一天
(C) 國曆 7 月 22-24 日其中一天
(D) 國曆 10 月 23-24 日其中一天
35. 您在這次「教師甄試」前後幾天（夏季）晚餐到午夜前，即使天氣很好、沒有光害，也無法看到的星星是：
- (A) 天狼星 (B) 天津四 (C) 牛郎星 (D) 織女星
36. 哪種植物是校園或公園裡常見的有毒植物？
- (A) 野牡丹 (B) 山茼蒿 (C) 黃鵪菜 (D) 海欖果
37. 野外材火炊事直接用基礎材架設「井字灶」應注意：
- (A) 留心燃燒材的粗細與燃燒速率，避免燒斷材薪、打翻鍋子。
(B) 井字型底下應該塞滿木材用悶燒的方式才能有效迅速加熱。
(C) 基礎材應該選用愈乾燥並且細一點的才會比較好燒。
(D) 以上皆是
38. 哪一個國家公園以明星物種「台灣黑熊」作為重要對象進行比較多的調查研究計畫？
- (A) 雪霸國家公園 (B) 太魯閣國家公園
(C) 玉山國家公園 (D) 陽明山國家公園
39. 蒙古包和屋式帳（複式帳）之比較下列何者是對的？
- (A) 蒙古包一定比屋式帳要來得輕
(B) 蒙古包很難一個人自己搭設起來
(C) 屋式帳比蒙古包好的地方是在野外若營柱故障時，較容易找到替代品。
(D) 蒙古包在登山帳篷市場中出現的歷史，比屋式帳要來得早。
40. 某一首童軍歌謠中的歌詞如下：「拿出我們的力量，隨時準備！自動自覺自尊，abcdefgh，榮譽是崇高的生命。」abcdefgh 的歌詞是：
- (A) 小隊是制度的核心 (B) 服務是生活的中心
(C) 我們是時代的巨人 (D) 孩子是未來的希望
41. 單滑結主要的作用是？
- (A) 稱住一個人的重量
(B) 在不太受力的收尾繩端所綁的容易拆解的繩結
(C) 固定兩個垂直的竹子
(D) 綁住瓶子掛在竹架上
42. 作為連接不同繩子的用途、好打又好拆的是哪一種？
- (A) 歐洲死亡結 (B) 亞洲方回結
(C) 雙漁人結 (D) 稱人結
43. 砍木材時刀、斧同樣的力道可以造成較大破壞面的角度是和木頭樹幹軸線成多少角度？
- (A) 0 度 (B) 45 度 (C) 90 度 (D) 180 度
44. 野外 LNT 原則中有關「適切維護環境並處理垃圾 (Dispose of Waste Properly)」的參考建議，何者為是？
- (A) 如果你願意，可以把排遺背下山。
(B) 大多數的地方可接受將排遺埋在一個 10---20 公分深，離水源、營地或步道至少 60 公尺遠的貓洞 (cathole) 裡。
(C) 貓洞的表面最好能以原來的植被覆蓋。
(D) 以上皆是。
45. 在非洲的好望角看星星，有什麼星星或星座可以幫我們辨別方向？
- (A) 南十字星 (B) 大熊星座 (C) 北極星 (D) 小熊星座
46. 若在森林裡升狼煙求救，當直升機靠近要降落時，特別要留意的是：
- (A) 應持續揮手
(B) 應大聲吶喊
(C) 應避免炭火被風吹散引發周邊草木燃燒
(D) 應注意直升機是否逆光飛行
47. 在山林野地裡迷途失蹤，所謂「S. T. O. P.」的四個字母，其中 P 代表什麼？
- (A) PLAY (B) PRTSENT (C) PLAN (D) PK
48. 在山區遇到閃電打雷，應該如何是好？
- (A) 不必理會雷電，會被雷劈就是會被雷劈，不會被劈就是不會被劈。
(B) 立刻跑到空曠的地方讓自己變成至高點比較不會被打中。
(C) 躲在空曠稜線風景好展望佳的涼亭內。
(D) 如果沒有汽車或密閉房舍，就儘速躲入密林裡的低處。
49. 若用「摩斯密碼」通訊傳輸「520」，其訊號為：
- (A) . — — — — — . . — — . . .
(B) — — — — — — — — — —
(C) — — — — — — —
(D) — — — — — — — —
50. 聚酯纖維材質的衣服，具有什麼樣的功能特色？
- (A) 吸水性超強 (B) 洗起來很容易皺
(C) 快乾排汗不易皺 (D) 吸汗但容易發臭