

新北市立國民中學 105 學年度教師聯合甄選試題

科目：地理科

— 考生作答說明 —

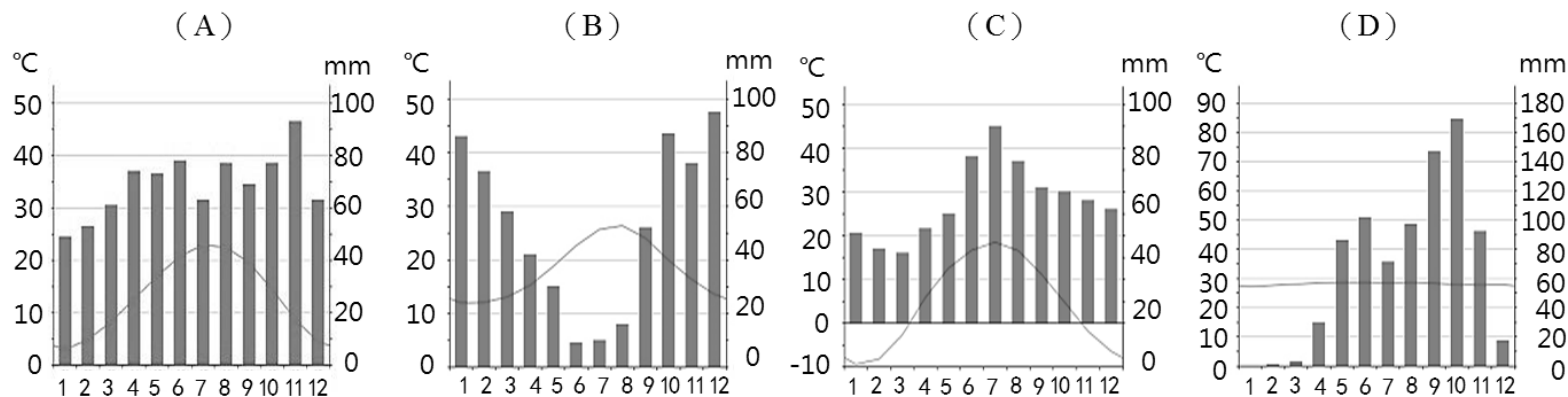
- 一、請核對答案卡科目、准考證號碼是否與准考證內容相符，如果不符，請立即向監試人員反應。
- 二、題目如涉及計算，禁止使用電子計算功能設備運算。
- 三、請使用 2B 鉛筆於「答案卡」上畫記作答，切勿使用修正液(帶)，以免無法判讀。
- 四、答案卡與試卷須一起繳交，方可離開試場。
- 五、請務必填上准考證號碼。

准考證號碼：_____

科目：地理科

選擇題：共 80 題，總分 100 分。第 1~60 題，每題 1 分；第 61~80 題，每題 2 分

- (C) 1. 新北市政府於 2014 年 8 月 30 日、31 日在新北市內產量最多的某一區舉辦「新北市文旦柚節聯合行銷活動暨農特產品展售會」，這是下列哪一區？
(A) 淡水區 (B) 雙溪區 (C) 八里區 (D) 三峽區
- (C) 2. 在新北市旅遊時，若詢問在地人目前所在的地名，其回答：「小基隆」，最可能在哪一個行政區？
(A) 貢寮區 (B) 萬里區 (C) 三芝區 (D) 八里區
- (A) 3. 目前封存的核四電廠位於新北市哪一個行政區？
(A) 貢寮區 (B) 萬里區 (C) 金山區 (D) 石門區
- (D) 4. 沿岸及近海資源深受海岸地形影響，在臺灣若要品嚐當地盛產的「牡蠣」，最容易在下列哪一個縣市品嚐到？
(A) 宜蘭縣 (B) 臺東縣 (C) 屏東縣 (D) 嘉義縣
- (C) 5. 「五年祭」是排灣族的節慶，最可能在哪一個縣市舉行？
(A) 花蓮縣 (B) 南投縣 (C) 屏東縣 (D) 嘉義縣
- (B) 6. 下列哪一個國家並未使用歐元 (Euro) 為國家通行貨幣？
(A) 芬蘭 (B) 英國 (C) 西班牙 (D) 斯洛維尼亞
- (C) 7. 下列哪一個國家較容易發生土地退化中的沙漠化現象？
(A) 孟加拉 (B) 海南島 (C) 布吉納法索 (D) 剛果民主共和國
- (C) 8. 美國哪一個地區因氣候關係，較易發生「火災」類的天然災害？
(A) 德州 (B) 五大湖區 (C) 加州 (D) 佛羅里達州
- (B) 9. 製鞋產業從各類原物料開始，經過多道手續之後，將鞋材組合成一雙雙鞋，再經由通路商或代理商銷售，這種產業形式以那個概念說明最恰當？
(A) 水平分工 (B) 垂直整合 (C) 區域整合 (D) 區域專業化
- (A) 10. 熱帶雨林地區的傳統農業以下列何種形式為主？
(A) 游耕 (B) 游牧 (C) 集約農業 (D) 熱帶栽培業
- (C) 11. 下列關於聯合國推動非洲「綠色長城」的敘述，何者正確？
(A) 種植耐旱草類取代樹林 (B) 防止土壤鹽鹼化 (C) 防止沙漠化擴大 (D) 實行於薩赫爾區南部
- (B) 12. 下列氣溫雨量圖何者最可能代表義大利威尼斯的氣候？



- (B) 13. 下列歐洲客工 (Guest Worker) 移動現象的敘述，何者正確？ 甲、歐洲大陸由北向南移動 乙、歐洲大陸由東向西移動 丙、波蘭移入德國 丁、北義大利移往南義大利
(A) 甲乙 (B) 乙丙 (C) 丙丁 (D) 甲丁
- (A) 14. 旅行不可或缺的，就是享受道地的在地美食。想吃到道地的海鮮飯、烤羊排、番茄湯，最適合選擇哪個城市？
(A) 巴塞隆納 (B) 羅馬 (C) 希臘 (D) 里斯本
- (B) 15. 下列關於韓國的敘述，何者正確？
(A) 韓國未曾為日本殖民 (B) 韓國的雨量由南向北遞減
(C) 韓國不是亞洲四小龍之一 (D) 韓國受地形影響，對外貿易以日本海為其主要航線
- (D) 16. 俄羅斯若要發展地熱能源，下列哪一個區域最適合？
(A) 歐俄平原 (B) 西部西伯利亞 (C) 中部西伯利亞 (D) 遠東西伯利亞
- (A) 17. 印尼的雨林大肆開發，造成近年來很嚴重的霾害，除了印尼政府鼓勵爪哇島移民開發外，主要還有哪些國家投資開發？ 甲、新加坡 乙、馬來西亞 丙、荷蘭 丁、法國 戊、美國
(A) 甲乙 (B) 乙丙 (C) 丙丁 (D) 丁戊

- (D) 18. 以下東南亞國家中，哪一個最不易直接受到地震天然災害影響？
 (A) 印尼 (B) 東帝汶 (C) 菲律賓 (D) 馬來西亞
- (C) 19. 關於印度半島降雨的敘述，下列何者正確？
 (A) 雨季四月開始 (B) 巴基斯坦因地形舉升降雨少
 (C) 中部平原雨量由東向西遞減 (D) 西高止山降雨量比東高止山少
- (B) 20. 假設某國中保存有下列四種比例尺的地圖，老師指導學生繪製以校園為範圍的主題地圖時，應該選擇哪一個比例尺的地圖製作基圖，最為恰當？
 (A) 1:50 (B) 1:2500 (C) 1:25000 (D) 1:100000
- (B) 21. 圖一所示的海岸地形，最不可能出現在下列哪一個中國省市區？
 (A) 河北 (B) 天津 (C) 廣東 (D) 廣西



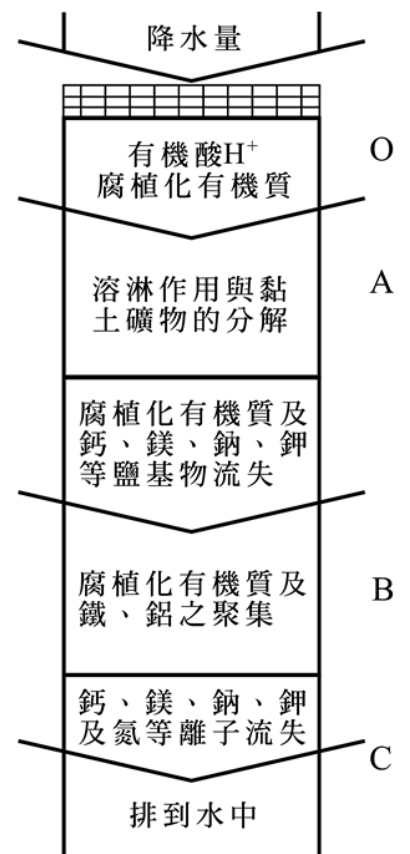
圖一



圖二

- (D) 22. 圖二是個國際流通之食品認證標章，這類標章最容易在下列哪一個國家看到？
 (A) 波蘭 (B) 秘魯 (C) 日本 (D) 馬來西亞
- (A) 23. 由於中華民國與中華人民共和國兩外交部的國名譯名不同，哪兩個非洲國家在教學時容易發生誤植或混淆的現象？(選項以我國譯名為準)
 (A) 尼日、奈及利亞 (B) 馬利、茅利塔尼亞
 (C) 剛果、剛果民主共和國 (D) 赤道幾內亞、幾內亞比索
- (D) 24. 某地理考題如下：「這個週末，小明全家要從潮州鎮開車經由南迴公路到臺東市知本泡溫泉。他們在沿途，最不可能看到什麼地理景觀？(A) 潟湖 (B) 石板屋 (C) 沖積扇 (D) 金針花海」(預設正確答案為：A)。此考題最主要違反下列哪一項地理科命題原則？
 (A) 選項應具有誘答性 (B) 選項間的涵義不可重疊
 (C) 試題之間不能有連鎖關係 (D) 解題線索所指的空間範圍須具體
- (A) 25. 德國西部的萊因地區 (Rhineland)，在過去幾十年間出現多個湖泊，其水深可超過一百公尺，面積可達一千公頃。這些湖泊主要是下列哪一項因素造成的？
 (A) 煤礦開採 (B) 洪水溢淹 (C) 地層下陷 (D) 河流改道
- (A) 26. 臺灣熱帶季風林與熱帶雨林相較，前者具有以下哪兩項特徵？ 甲、樹冠層的高度較低 乙、有季節性落葉 丙、植物高低分層現象不顯著 丁、少見附生植物攀附現象
 (A) 甲乙 (B) 乙丙 (C) 丙丁 (D) 甲丙
- (D) 27. 臺灣因位置、海陸配置與地形影響，氣象變化的複雜性高，先民觀察這些特殊現象後，賦予了貼切而有趣的命名，例如「火燒風」、「落山風」、「西北雨」、「瘋狗浪」等。下列哪兩種現象，主要發生在夏季？
 (A) 落山風、火燒風 (B) 西北雨、瘋狗浪 (C) 落山風、瘋狗浪 (D) 火燒風、西北雨
- (A) 28. 泰雅族的傳統領域，主要和哪一個國家公園的範圍重疊？
 (A) 雪霸 (B) 玉山 (C) 臺江 (D) 太魯閣
- (B) 29. 為追求環境永續的願景，政府努力開發「再生能源」，其中一項為「千架海陸風力機」政策，包含在陸域和離岸設置風力機。從自然與人文環境條件來看，下列哪一段海岸最適合陸域風力機的架設？
 (A) 南方澳—花蓮 (B) 桃園—雲林 (C) 高雄—墾丁 (D) 臺東—花蓮
- (C) 30. 國軍退除役官兵輔導委員會在全臺設有多座農場，其中哪一個農場位於山谷，較易因冷空氣下沉，而出現逆溫現象，特別有利於高冷蔬菜的栽種？
 (A) 清境農場 (B) 臺東農場 (C) 武陵農場 (D) 福壽山農場
- (D) 31. 下列何者是日本年平均降水量最少的地區？
 (A) 黃海沿岸 (B) 日本海沿岸 (C) 太平洋沿岸 (D) 瀨戶內海沿岸

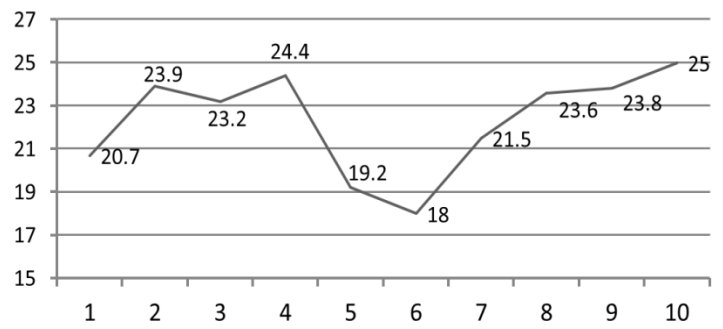
- (C) 32. 清朝領臺的前期，「一府」及「二鹿」雖然受惠於作為臺灣與福建對渡正口的優勢，然而其本身地點 (site) 的條件優勢，對其港市發展也有不可忽視的影響。當時府城與鹿港共同的「地點」條件優勢為何？
 (A) 有大河水系匯聚，腹地廣大 (B) 灣闊水深可泊大噸位海輪
 (C) 寬廣內海可供眾多船隻停泊 (D) 有大批來自公部門的消費群
- (A) 33. 臺灣某地與福建閩南地區均有「冬來看山頭，春來看海口」的氣候諺語，形容冬季季風之迎風坡面，使水汽抬升鬱積山頭；春季則因冷、暖氣團交會，鋒面先至海面上空，形成大面積的連續性降雨。上述諺語最可能是形容哪個地區的氣候特色？
 (A) 蘭陽平原 (B) 臺中盆地 (C) 埔里盆地 (D) 濁水溪平原
- (B) 34. 據統計，冬、春季是新北市的高速公路及快速道路系統之汽車車禍發生頻率較高的季節。從氣候條件來看，此現象與下列哪兩者的關係最密切？
 (A) 日照時數低、日溫差大 (B) 日照時數低、降水日數多
 (C) PM2.5 濃度高、日溫差大 (D) PM10 濃度高、季風風勢強勁
- (B) 35. 下列哪些作物的原生種源於美洲大陸？ 甲、甘藷 乙、蕎麥 丙、咖啡 丁、可可 戊、橡膠
 (A) 甲乙丙 (B) 甲丁戊 (C) 乙丙丁 (D) 丙丁戊
- (C) 36. 目前國內高中地理教科書所呈現的氾濫原示意圖，自然堤全部是緊貼河道兩岸。然而在臺灣西部各大溪流的自然堤卻多遠離河道數十到數百公尺，與教科書的圖示有明顯差異。這種差異最主要是反映臺灣河流的哪種特性？
 (A) 平均比降大 (B) 流域面積小 (C) 洪枯差異大 (D) 開發破壞嚴重
- (C) 37. 社會科學中用於描述移民對移入地之「在地化」過程，若用下列三個術語來表現：甲、涵化 (acculturation) 乙、同化 (assimilation) 丙、調適 (accommodation)，按落實的「在地化」程度由高到低的排序為：
 (A) 甲乙丙 (B) 甲丙乙 (C) 乙甲丙 (D) 乙丙甲
- (B) 38. 圖三是下列哪一種土壤化育作用的示意圖？
 (A) 鹽化作用 (B) 灰化作用 (C) 鈣化作用 (D) 聚鐵鋁作用
- (D) 39. 某人以日治初期出版之臺灣堡圖為底圖，按其原圖比例尺，針對當時位於嘉南平原的某村莊，以方格法計算其聚落區，得到的面積約為 1.0 公分×0.5 公分，則此聚落區佔地為多少平方公尺？
 (A) 1,000 (B) 2,000 (C) 10,000 (D) 20,000
- (C) 40. 目前在臺灣市面上所能購買到的民用 GPS，其測量功能最無法精準的測量項目為下列何者？
 (A) 測量方位 (B) 顯示街道地圖
 (C) 測量堤防標高 (D) 標示行經路線軌跡
- (A) 41. 柬埔寨第一大湖「洞里薩湖」，在乾季湖面水域萎縮到 2,700 平方公里，雨季可擴張到 16,000 平方公里。下列哪一個月分是洞里薩湖水位最低的枯水期？
 (A) 2 月 (B) 5 月 (C) 8 月 (D) 11 月
- (A) 42. 新北市安坑地區屬於狹窄的通谷地形，在過去的年代，其農業發展相較於開闊的新店大坪林，下列何者是安坑最弱勢的氣候條件？
 (A) 日照少 (B) 降水少 (C) 積溫低 (D) 蒸發散量高
- (D) 43. 「集村的建築較為密集；散村則零星的散布於鄉間。這種鄉村聚落型態的空間差異，與地形、水源開墾制度有關。以現況而言，嘉南平原多集村，蘭陽平原多散村」上文的論點在地理學知識傳授過程中，最值得商榷之處為何？
 (A) 集、散村定義 (B) 空間尺度錯亂
 (C) 開墾制度有誤 (D) 抽離時間脈絡
- (A) 44. 印度半島西部塔爾沙漠的成因，不包括下列何者？
 (A) 東南部有高大山脈阻擋海洋水汽 (B) 冬季為向南季移的副熱帶高壓帶籠罩
 (C) 來自孟加拉灣的夏季季風影響範圍的末端 (D) 西南季風氣團經過乾燥高原變乾及越過山脈沉降
- (A) 45. 「鄭成功攻臺時間的選定，與季候風很有關係。因為臺灣海峽的北貿易風，始於每年的陽曆 10 月，南貿易風始於 5 月；……，他就是利用北貿易風將盡，南貿易風未發的時候，從澎湖揚帆直進鹿耳門。」上文用詞最大之謬誤為何？
 (A) 錯將信風作季風 (B) 忽略潮信的影響
 (C) 錯估季風方向之穩定 (D) 忽略海、陸風的影響



圖三

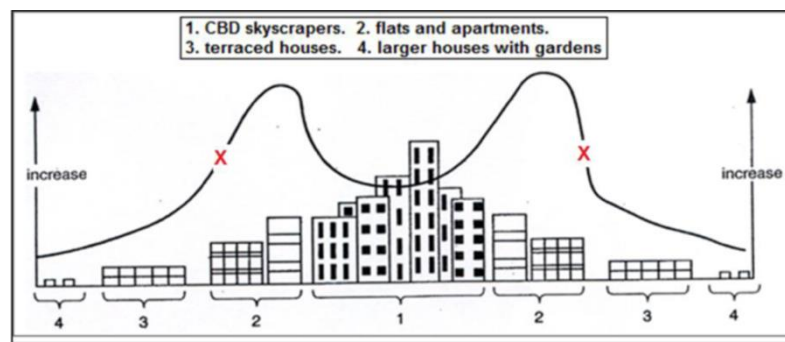
- (D) 46. 瓦斯熱水器裝在有鐵鋁窗陽臺間，視同室內，須強制裝設排氣管，否則仍有一氧化碳中毒的危險。瓦斯中毒事件多發生在冬季寒流來襲期間；在夏季，完全相同的熱水器使用狀況，卻很少發生瓦斯中毒。冬、夏瓦斯中毒危險性的差異與下列何者關係最密切？
- (A) 仲夏時熱水器瓦斯的燃燒效率較隆冬時為佳 (B) 隆冬天氣冷，人體血壓上升對氧氣需求量大
(C) 仲夏戶外氣壓遠大於熱水器使用時的陽臺間 (D) 隆冬戶外氣壓遠大於熱水器使用時的陽臺間
- (B) 47. 土耳其安納托利亞高原上的觀光勝地卡帕多西亞有「凝灰岩」石柱景觀。該地的凝灰岩景觀與下列那種作用力關係最密切？
- (A) 酸雨溶蝕 (B) 火山噴發 (C) 河流侵蝕 (D) 風蝕作用
- (C) 48. 目前紐西蘭的全國年經濟收入中，總產值最高的是下列何種產業？
- (A) 農業 (B) 製造業 (C) 服務業 (D) 各級產業鼎立
- (B) 49. 印度半島德干高原西北部雖地處熱帶，卻擁有肥沃的「黑棉土」。根據土壤母質對農業生產量的影響，推斷黑棉土的土壤母質屬於下列何者？
- (A) 花崗岩 (B) 玄武岩 (C) 安山岩 (D) 石灰岩
- (A) 50. 農業委員會劃定「土石流潛勢溪流」，主要依據為：「溪谷坡度、溪床坡度及有效集水區面積三項指標。劃定條件主要為溪谷坡度大於 15°、溪床坡度大於 15°，以及集水區面積大於 3 公頃。」推算 3 公頃大約是「四百公尺標準跑道」面積的幾倍？
- (A) 3-5 倍 (B) 10-15 倍 (C) 20-30 倍 (D) 30-45 倍
- (A) 51. 中國西半部的山脈多偏東西走向，東半部的山脈則多呈震旦走向。此種山脈分布的空間結構，與下列何者關係最密切？
- (A) 板塊擠壓 (B) 古老結晶岩 (C) 降水侵蝕力 (D) 正斷層隆起地壘
- (A) 52. 2016 年鴻海公司併購日本夏普公司，在併購之後鴻海公司所獲得的重要「機會」包括哪些？
- 甲、品牌行銷 乙、水平分工 丙、垂直整合 丁、生產標準化 戊、產品規格化
- (A) 甲乙丙 (B) 甲丁戊 (C) 乙丙丁 (D) 丙丁戊
- (D) 53. 在臺灣的哪種地質區，開挖土壤剖面時，極少會出現 R 層（母岩層）？
- (A) 中央山脈 (B) 西部麓山帶 (C) 大屯火山區 (D) 現代沖積層
- (D) 54. 世界上許多離岸小島發展成「境外金融中心」，2016 年自南德意志報公布的《巴拿馬文件》，揭露存放於「境外金融中心」的各國政治人物與精英們未曝光的海外資產，引發國際輿論軒然大波。這些離岸「境外金融中心」能蓬勃發展，最主要得力於下列何者？
- (A) 運輸交通便利 (B) 土地成本低廉 (C) 嚴密金融管制 (D) 優惠稅務政策
- (A) 55. 聖嬰現象旺盛的年分，下列哪一個國家明顯會出現比長年降水量減少的現象？
- (A) 印尼 (B) 緬甸 (C) 越南 (D) 臺灣
- (A) 56. 臺灣北部岬灣海岸的成因主要為「軟、硬岩互層，加上岩層走向與海岸直交，硬岩成岬角，軟岩成灣澳」，下列哪一種岩層分布區最容易成為灣澳所在？
- (A) 頁岩 (B) 板岩 (C) 片岩 (D) 粉砂岩
- (B) 57. 中國西南的橫斷山脈區具一山夾一谷的地理形勢，其中「一谷」在地形學稱為什麼？
- (A) 橫谷 (B) 縱谷 (C) 懸谷 (D) 斜谷
- (C) 58. 我國哪一個國家地質公園的地質以泥岩為主？
- (A) 北部海岸 (B) 雲林草嶺 (C) 燕巢惡地 (D) 澎湖海洋
- (C) 59. 緯度及海拔高度相近的挪威的卑爾根、奧斯陸，瑞典的斯德哥爾摩，以及愛沙尼亞首都塔林等四個都市中，何者年溫差最小？
- (A) 塔林 (B) 奧斯陸 (C) 卑爾根 (D) 斯德哥爾摩
- (D) 60. 全球的區域經濟整合中，「南方共同市場」是下列哪個地區國家所組織的區域經濟體？
- (A) 南亞 (B) 南非洲 (C) 大洋洲 (D) 南美洲
- (C) 61. 2016 年 2 月 6 日發生「美濃地震」之後，營建署公告宜蘭、臺北、新竹、臺南、高雄等地之「土壤液化潛勢圖」。其中「高潛勢區」除了臺北盆地外，大多位於沿海地帶，其主要原因有哪些？甲、超抽地下水，地層下陷；乙、地勢低窪，地下水高；丙、接近地表之地層顆粒細緻；丁、斷層效應，能量放大
- (A) 甲乙 (B) 甲丙 (C) 乙丙 (D) 丙丁
- (C) 62. 臺灣焚風形成的成因有兩個類型：颱風型、西南氣流型。某颱風暴風半徑為 150 公里，某日上午 08:00 颱風中心約位於 (23.5°N; 123.0°E) 向西北西方向前進。下列哪個鄉鎮市區在當時，最容易發生颱風型的焚風現象？
- (A) 卑南 (B) 五結 (C) 香山 (D) 潮州

- (A) 63.圖四是 2014 年 5 月 1~10 日臺北的日均溫 (°C) 變化圖。5 月 6 日的鋒面位置最靠近下列何處？
 (A) 巴士海峽 (B) 臺南地區
 (C) 臺北地區 (D) 釣魚臺海面



圖四

- (B) 64.天然氣水合物為新型態天然氣資源，是一種由甲烷氣體與水分子於低溫高壓下所合成的固態結晶產物，具有巨大的儲氣能力（一個單位體積可以釋放出 150-170 單位體積的甲烷氣體）。我國經歷十餘年的調查，已經確認臺灣哪處海域有相當高的甲烷資源量？
 (A) 東北 (B) 西南
 (C) 西北 (D) 東南
- (C) 65.美國在第二次世界大戰結束後的冷戰初期，發想出「島鏈戰略」以遏止東亞的共產勢力。該時所謂的「第二島鏈」的一連串島嶼，主要位於些板塊的聚合邊界？
 (A) 澳洲板塊、太平洋板塊 (B) 歐亞大陸板塊、菲律賓海板塊
 (C) 太平洋板塊、菲律賓海板塊 (D) 歐亞大陸板塊、澳洲板塊
- (D) 66.員山子分洪工程是大臺北防洪工程的一環，但該工程對於淡水河流域的總洪水量的減緩有限，主要原因為何？
 (A) 該工程所在河流的坡度陡而水流湍急 (B) 該工程出口海水面的潮差很小
 (C) 降雨中心多出現在該工程的下游河段 (D) 該工程之上游的集水面積不大
- (B) 67.圖五為某已開發國家的城市的剖面圖，圖中 X 線所代表的資料為何？（1.中心商業區摩天大樓、2.公寓、3.連棟房屋、4.有花園的大房子）
 (A) 開放空間數量 (B) 居住人口密度 (C) 土地價值 (D) 辦公室數量



圖五

- (D) 68.臺灣許多民間信仰神祇來自福建閩南，其中有些廟宇主祀神的祖廟為位於漳、泉交界的青礁與白礁兩村，均稱為慈濟宮，是漳州與泉州居民共同的信仰。該原鄉神祇為何？
 (A) 玄天上帝 (B) 觀音佛祖 (C) 清水祖師 (D) 保生大帝

◎冰河地形大致可分為冰積地形與冰蝕地形，圖六是冰河地形的照片，請問：

- (D) 69.該圖中那個屬於「刃嶺」地形？
 (A) 甲 (B) 乙 (C) 丙 (D) 丁
- (B) 70.下列關於冰積平原與外洗平原的敘述，何者正確？
 甲、冰積平原位於端碛前方。
 乙、外洗平原是融化冰水堆積所致。
 丙、冰積平原碎屑物大小雜陳。
 丁、冰積平原屬於冰積地形。
 戊、鼓丘大都位於外洗平原上。
 (A) 甲乙丙 (B) 乙丙丁 (C) 丙丁戊 (D) 甲乙戊



圖六

- (A) 71.關於鼓丘、羊背石、蛇丘的敘述，何者正確？
 甲、鼓丘迎冰流坡較背冰流坡陡。
 乙、鼓丘、蛇丘屬於冰積地形。
 丙、蛇丘碎屑物隨冰水成層堆積。
 丁、羊背石的長軸線與冰流方向直交。
 戊、羊背石迎冰流面較背冰流粗糙。
 (A) 甲乙丙 (B) 乙丙丁 (C) 丙丁戊 (D) 甲乙戊

◎花東海岸背倚海岸山脈，面迎太平洋，兼具山海美景。圖七是海岸山脈南段一景，遠處突出的小丘為猴子山，前景為杉原海灘。該處海灘曾是杉原海水浴場所在，右下方的建物是某觀光遊憩開發案在近年興建的。

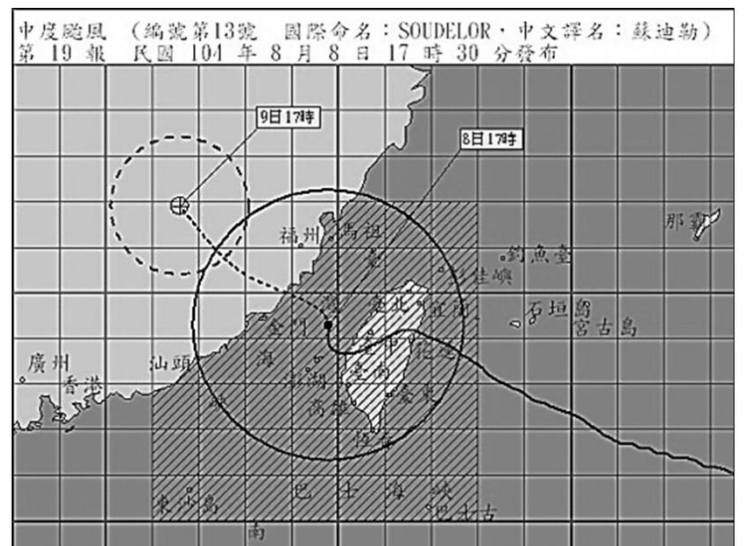


圖七

- (D) 72. 猴子山的高度僅一百餘公尺，為夾在利吉層（混同層）中的硬岩，差別侵蝕結果，硬岩突出成為醒目的地標。猴子山與周圍低地的岩性分別為何？
 (A) 安山岩、泥岩 (B) 砂岩、石灰岩
 (C) 安山岩、砂岩 (D) 砂岩、泥岩
- (B) 73. 該圖中右前景某海岸開發案的主體建築，最接近下列哪個海岸區帶？
 (A) 前濱區 (B) 後濱區
 (C) 激浪帶 (D) 潮間帶

◎去(2015)年中度颱風「蘇迪勒」侵襲臺灣，狂風暴雨造成各地許多災情，圖八為該颱風的路徑圖。

- (B) 74. 判斷8月9日17時30分時，「蘇迪勒」颱風的暴風半徑約為多少公里？
 (A) 100 (B) 250
 (C) 500 (D) 750
- (C) 75. 該次颱風期間，曾因下列何處發生山崩、土石流，導致原水濁度提升，而造成大臺北部份地區停水？
 (A) 大漢河流域 (B) 基隆河流域
 (C) 新店河流域 (D) 盆地周緣小溪流集水區



圖八

◎伊斯蘭傳統城市的景觀，具有多層次的都市印記。請問：

- (B) 76. 下列關於伊斯蘭傳統城市景觀的敘述，何者正確？
 甲、不具有城牆。
 乙、清真寺所在是城市的核心區。
 丙、麥地納 (medina) 阿拉伯語意為城市。
 丁、巴札 (bazaar) 是住宅區所在。
 (A) 甲乙 (B) 乙丙 (C) 丙丁 (D) 甲丁
- (D) 77. 下列關於伊斯蘭傳統城市住宅區景觀的敘述，何者正確？
 甲、蜿蜒小巷。
 乙、大門相對以利溝通。
 丙、窗戶低且大，以利通風。
 丁、死巷設計，以防陌生人進入。
 戊、屋頂以平頂為主。
 (A) 甲乙丙 (B) 乙丙丁 (C) 丙丁戊 (D) 甲丁戊

◎圖九係以某世界地圖集為底圖所繪製的「南、中美洲位置略圖」。請問：

- (C) 78. 該圖之底圖所採用的地圖投影法，最近似於下列哪種投影法？
 (A) 橫麥卡托投影 (B) 麥卡托正向投影
 (C) 莫爾威等積投影 (D) 蘭伯特圓錐投影
- (D) 79. 該圖中央偏右下，顏色黝黑的範圍是指哪個國家？
 (A) 蓋亞那 (B) 巴拉圭 (C) 烏拉圭 (D) 玻利維亞
- (D) 80. 圖上甲、乙、丙、丁四處所流經的洋流，何者屬於暖流性質？
 (A) 甲 (B) 乙 (C) 丙 (D) 丁



圖九