

# 新竹縣 102 年國民中學新進教師甄選【專門科目：童軍】試題卷

※注意事項：1、答案請畫在答案卡上，如寫在試題卷上一律不計分。

2、作答完畢，請將試題卷及答案卡一併交回。

3、本試題卷共 3 頁。

單一選擇題：請依照題意，從四個選項中選出一個正確或最佳的答案（共 50 題，每題 2 分，合計 100 分）

1. 微調課綱中，為落實綜合活動學習領域課程目標，宜掌握教學要領，下列何者為非？

- (A) 實踐體驗所知 (B) 省思個人意義  
(C) 擴展人際關係 (D) 鼓勵多元與尊重

2. 九年一貫課程能力指標中，四個層級的轉化歷程是：

- (A) 由單元行為目標轉化為單元活動目標，再轉化為主題活動目標，後轉化到能力指標。  
(B) 由能力指標轉化為單元活動目標，再轉化為主題活動目標，後轉化到單元行為目標。  
(C) 由能力指標轉化為主題活動目標，再轉化為單元活動目標，後轉化到單元行為目標。  
(D) 由能力指標轉化為主題活動目標，再轉化為單元行為目標，後轉化到單元活動目標。

3. 下列敘述何者錯誤？


- (A) 榮譽議庭（簡稱C.O.H）是一種訓練方式  
(B) 榮譽議庭（簡稱C.O.H）是由團長、副團長、聯隊長、小隊長或資深副小隊長組成  
(C) 榮譽議庭（簡稱C.O.H）裡團長擁有表決權而無否決權  
(D) 團的重要活動及全年活動計畫都必須經過榮譽議庭（簡稱C.O.H）討論

4. 小隊長訓練是小隊制度的基本運行方法，下列何者不是訓練方式？

- (A) 在小隊長會議時可利用短暫時間給予訓練  
(B) 團集會裡召集小隊長訓練  
(C) 縣市童軍會籌設的小隊長訓練營  
(D) 在訓練營中由聯隊長正確教導或示範

5. 颱風中心的等壓線上，最可能為標示下列何組數字？

- (A) 88 (B) 48 (C) 28 (D) 08



這組旗語電碼為何？

- (A) 4609 (B) 0649 (C) 3507 (D) 3508

7. 露營升旗時，如果同時要升國旗、世界旗、團旗，則面向旗子（學員的位置）這三根旗竿的擺放位置由左而右之順序為：

- (A) 國旗→世界旗→團旗

- (B) 世界旗→國旗→團旗

- (C) 團旗→國旗→世界旗

- (D) 國旗→團旗→世界旗

8. 世界童軍徽章中，中間為光明之花（fleur-de-lis），花上三尖意為童軍哪三方面？

- (A) 對神、對己、對人 (B) 智、仁、勇  
(C) 求真、求善、求美 (D) 對人、對事、對物

9. 童軍營火結束後使用的「晚禱」旋律緣自於

- (A) 巴特菲爾德一搖籃曲  
(B) 德佛札克一新世紀交響曲  
(C) 貝多芬一月光奏鳴曲  
(D) 韓德爾一彌賽亞

10. 就綜合活動學生學習成就表現標準對照經驗學習圈而言，學生能力通過應為？

- (A) 體驗到觀察反思階段  
(B) 觀察反思到歸納通則階段  
(C) 歸納通則到實踐階段  
(D) 實踐到再體驗階段

11. 升團典禮是一個很有意義的儀典，下列敘述何者錯誤？

- (A) 升團儀式較適合於幼童軍集會開始前及童軍團集會結束後。  
(B) 儀式應莊嚴而愉快，如果幼童軍不能參加童軍團可改為歡送他的離團。  
(C) 幼童軍集合時在童軍團一端成「活動圈」，團長在圈的中央。  
(D) 全體的幼童軍向升團者歡呼「WOLF、WOLF、WOLF」三聲。

12. 於 1919 年 7 月 25 正式啟用國際童軍訓練中心，從此成為本章訓練的發祥地，是指何處？

- (A) 玫瑰園（Rose Park）  
(B) 阿路伊公園（Arrowe Park）  
(C) 極偉園（Gilwell Park）  
(D) 白浪園（Poole Park）

13. 本章的核發登錄是由哪一個單位？

- (A) 國家研習營 (B) 中國童軍總會  
(C) 縣市童軍會 (D) 以上皆可

14. 到哪裡旅行最不适合使用指北針？

- (A) 恆春 (B) 赤道地區 (C) 冰島 (D) 印度

15. "Scouts in special needs" 是專為身體有缺陷（如盲、啞等）的青少年及兒童所設。在台灣這類童軍常翻譯成

- (A) 國花童軍 (B) 自強童軍  
(C) 殘障童軍 (D) 長青童軍

16. 世界童軍運動組織揭櫫「童軍之環境責任」的四大目標

為：

- Ⓐ promotion, protection, conservation, sustainability
- Ⓑ plantation, protection, recycling, sustainability
- Ⓒ promotion, protection, protestation, recycling
- Ⓓ plantation, protestation, conservation, sustainability

17. 以下哪種制度是為適度因應青少年的成就慾，使其在愉快的活動中樂於追求目標，產生進取心：

- Ⓐ 小隊制度
- Ⓑ 徽章制度
- Ⓒ 榮譽制度
- Ⓓ 晉級制度

18. 世界童軍運動組織的願景：

- Ⓐ Scouting for all
- Ⓑ Be Prepared
- Ⓒ Scouting for Life
- Ⓓ Creating a better world

19. 童軍名稱、制服、徽章、儀典屬於童軍的

- Ⓐ 口號 (Slogan)
- Ⓑ 隱喻 (Metaphor)
- Ⓒ 信物 (Token)
- Ⓓ 象徵體系 (Symbolic Framework)

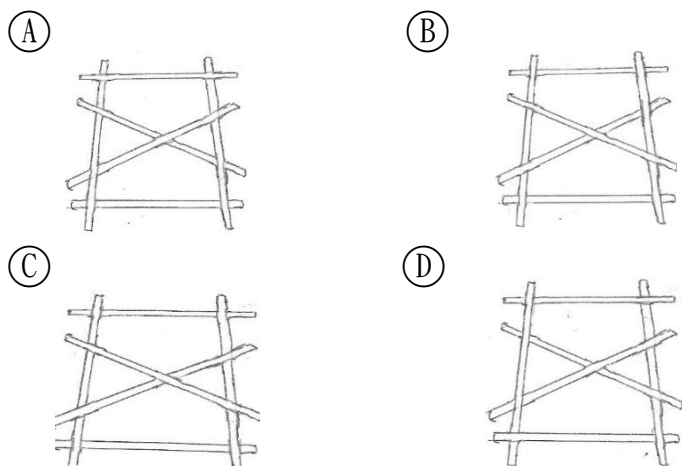
20. 我國總會中負責執行「世界童軍服務獎章」的單位：

- Ⓐ 活動委員會
- Ⓑ 人力資源委員會
- Ⓒ 國家訓練營
- Ⓓ 羅浮暨青年委員會

21. 關於異物哽到時之急救處理，以下何者正確？

- Ⓐ 哈姆立克法適用於患者陷入昏迷時
- Ⓑ 胸部擠壓法不適用於肥胖或懷孕者
- Ⓒ 哈姆立克法即為腹部擠壓法
- Ⓓ 以上皆非

22. 以下何者為戰車的正確搭法？



23. 中風的可能症狀及急救處理方式，以下何者為非？

- Ⓐ 患者呼吸困難
- Ⓑ 患者瞳孔大小左右不一
- Ⓒ 應讓患者平躺，但頭肩略墊高
- Ⓓ 應讓患者引用少量開水，保持喉嚨濕潤

24. 目前世界童軍領袖會議關於選舉及重大議題之投票制度，是採取：

- Ⓐ 聯合國制：每個國家相同票數
- Ⓑ 聯邦制：和每個國家童軍人口數大約成一定比例
- Ⓒ 貢獻制：依每個國家繳交之會員費數大約成一定比例
- Ⓓ 代表制：由選出之世界委員和議

25. 我國曾經承辦過哪類“World Event”？

- Ⓐ 世界大露營
- Ⓑ 世界領袖會議
- Ⓒ 世界羅浮大會
- Ⓓ 世界青年論壇

26. 截至目前，我國唯一獲選擔任童軍「世界委員會」委員的是以下哪位先生？

- Ⓐ 趙守博
- Ⓑ 徐觀餘
- Ⓒ 高銘輝
- Ⓓ 楊朝祥

27. Nagy 在「二億五千萬童子軍」(1986)一書中指出白浪島 (Brownsea Island) 露營時，貝登堡最想知道的是哪一個童軍原理？

- Ⓐ 露營的價值
- Ⓑ 做中學
- Ⓒ 徽章制度
- Ⓓ 小隊原動力

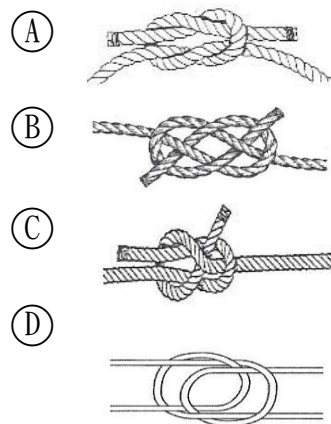
28. 關於童軍教育方法 (scout method)，以下何者不在 WOSM 所列的基本元素中？

- Ⓐ 以大自然為學校 Nature as the learning school
- Ⓑ 做中學 Learning by doing
- Ⓒ 創新思考 innovating thinking
- Ⓓ 成人支援 adult support

29. 宗教童軍在我國童軍人口的成長上所佔地位日趨重要。目前在人數及成長都佔最多的是那個童軍組織？

- Ⓐ 佛光童軍
- Ⓑ 慈濟童軍
- Ⓒ 基督教青年會童軍
- Ⓓ 天主教青年會童軍

30. 以下何者是花聯結：



31. 中華民國童軍文教基金會出版貝登堡原著的《童軍手冊》書名頁中副標題清楚地標示了這是一本：

- Ⓐ 「善用諾言規律銘言以養成良好童軍習慣的手冊」
- Ⓑ 「善用生創意的思考以養成良好童軍技能的手冊」
- Ⓒ 「善用山林生活的訓練以養成良好公民的手冊」
- Ⓓ 「善用童軍教育以養成綜合活動領域能力的手冊」

32. 「第 30 次亞太區童軍大露營」在哪一年？哪個國家辦理？

- Ⓐ 2012 年／台灣
- Ⓑ 2013 年／日本
- Ⓒ 2012 年／韓國
- Ⓓ 2013 年／馬來西亞

33. 你若參加一個追蹤旅行活動，看到設定好的 5 的記

號，它是：

- Ⓐ 前進記號：往前前進五公尺
- Ⓑ 小隊記號：第五小隊所在處
- Ⓒ 藏信記號：文件藏匿在距離箭頭方向大約五步處
- Ⓓ 營地記號：第五頂帳棚所在的方向

34. 農業生活中常依循節氣調整作息，請問「穀雨」主要在  
哪個時節？

- Ⓐ 國曆 1 月 19-21 日其中一天
- Ⓑ 國曆 4 月 19-21 日其中一天
- Ⓒ 國曆 7 月 22-24 日其中一天
- Ⓓ 國曆 10 月 23-24 日其中一天

35. 您在這次「教師甄試」前後幾天（夏季）晚餐到午夜前，  
即使天氣很好、沒有光害，也無法看到的星星是：

- Ⓐ 天狼星 Ⓑ 天津四 Ⓒ 牛郎星 Ⓓ 織女星

36. 哪種植物是校園或公園裡常見的有毒植物？

- Ⓐ 野牡丹 Ⓑ 山茼蒿 Ⓒ 黃鵪菜 Ⓓ 海欖果

37. 野外材火炊事直接用基礎材架設「井字灶」應注意：

- Ⓐ 留心燃燒材的粗細與燃燒速率，避免燒斷材薪、打翻鍋子。
- Ⓑ 井字型底下應該塞滿木材用悶燒的方式才能有效迅速加熱。
- Ⓒ 基礎材應該選用愈乾燥並且細一點的才會比較好燒。
- Ⓓ 以上皆是

38. 哪一個國家公園以明星物種「台灣黑熊」作為重要對象  
進行比較多的調查研究計畫？

- Ⓐ 雪霸國家公園 Ⓑ 太魯閣國家公園
- Ⓒ 玉山國家公園 Ⓓ 陽明山國家公園

39. 蒙古包和屋式帳（複式帳）之比較下列何者是對的？

- Ⓐ 蒙古包一定比屋式帳要來得輕
- Ⓑ 蒙古包很難一個人自己搭設起來
- Ⓒ 屋式帳比蒙古包好的地方是在野外若營柱故障時，較容易找到替代品。
- Ⓓ 蒙古包在登山帳篷市場中出現的歷史，比屋式帳要來得早。

40. 某一首童軍歌謠中的歌詞如下：「拿出我們的力量，隨時  
準備！自動自覺自尊，abcdefgh，榮譽是崇高的生命。」

abcdefgh 的歌詞是：

- Ⓐ 小隊是制度的核心 Ⓑ 服務是生活的中心
- Ⓒ 我們是時代的巨人 Ⓓ 孩子是未來的希望

41. 單滑結主要的作用是？

- Ⓐ 稱住一個人的重量
- Ⓑ 在不太受力的收尾繩端所綁的容易拆解的繩結
- Ⓒ 固定兩個垂直的竹子
- Ⓓ 綁住瓶子掛在竹架上

42. 作為連接不同繩子的用途、好打又好拆的是哪一種？

- Ⓐ 歐洲死亡結 Ⓑ 亞洲方回結
- Ⓒ 雙漁人結 Ⓓ 稱人結

43. 砍木材時刀、斧同樣的力道可以造成較大破壞面的角度

是和木頭樹幹軸線成多少角度？

- Ⓐ 0 度 Ⓑ 45 度 Ⓒ 90 度 Ⓓ 180 度

44. 野外 LNT 原則中有關「適切維護環境並處理垃圾

(Dispose of Waste Properly)」的參考建議，何者  
為是？

- Ⓐ 如果你願意，可以把排遺背下山。
- Ⓑ 大多數的地方可接受將排遺埋在一個 10---20 公分深，離水源、營地或步道至少 60 公尺遠的貓洞（cathole）裡。
- Ⓒ 貓洞的表面最好能以原來的植被覆蓋。
- Ⓓ 以上皆是。

45. 在非洲的好望角看星星，有什麼星星或星座可以幫我們  
辨別方向？

- Ⓐ 南十字星 Ⓑ 大熊星座 Ⓒ 北極星 Ⓓ 小熊星座

46. 若在森林裡升狼煙求救，當直升機靠近要降落時，特別  
要留意的是：

- Ⓐ 應持續揮手
- Ⓑ 應大聲吶喊
- Ⓒ 應避免炭火被風吹散引發周邊草木燃燒
- Ⓓ 應注意直升機是否逆光飛行

47. 在山林野地裡迷途失蹤，所謂「S. T. O. P.」的四個字母，  
其中 P 代表什麼？

- Ⓐ PLAY Ⓑ PRTSENT Ⓒ PLAN Ⓓ PK

48. 在山區遇到閃電打雷，應該如何是好？

- Ⓐ 不必理會雷電，會被雷劈就是會被雷劈，不會被劈就是不會被劈。
- Ⓑ 立刻跑到空曠的地方讓自己變成至高點比較不會被打中。
- Ⓒ 躲在空曠稜線風景好展望佳的涼亭內。
- Ⓓ 如果沒有汽車或密閉房舍，就儘速躲入密林裡的低處。

49. 若用「摩斯密碼」通訊傳輸「520」，其訊號為：

- Ⓐ . — — — — — . . . . .
- Ⓑ . . . . . . . — — — — —
- Ⓒ — — . . . . . . . — — — — —
- Ⓓ — — — — . . . . . — — — — —

50. 聚酯纖維材質的衣服，具有什麼樣的功能特色？

- Ⓐ 吸水性超強 Ⓑ 洗起來很容易皺
- Ⓒ 快乾排汗不易皺 Ⓓ 吸汗但容易發臭