

臺北市 102 學年度市立國民中學正式教師聯合甄選

地 理 科 題 本

請不要翻到次頁！

讀完本頁的說明，聽從監試委員的指示才開始作答

※請先確認你的答案卡、准考證與座位號碼是否一致無誤。

請閱讀以下測驗作答說明

測驗說明：

這是臺北市 102 學年度市立國民中學正式教師聯合甄選地理科題本，題本採雙面印刷，共 80 題，每題只有一個正確或最佳的答案。測驗時間共 100 分鐘，作答開始與結束請聽從監試委員的指示。

注意事項：

1. 所有試題均為四選一的選擇題，答錯不倒扣。
2. 依試場規則規定，答案卡上不得書寫姓名及任何標記。故意污損答案卡、損壞試題本，或在答案卡上顯示自己身份者，該科測驗不予計分。

作答方式：

請依照題意從四個選項中選出一個正確或最佳的答案，並用 2B 鉛筆在答案卡上相應的位置劃記，請務必將選項塗黑、塗滿。如果需要修改答案，請使用橡皮擦擦拭乾淨，重新塗黑答案。

請聽到鈴（鐘）聲響後再翻頁作答

新聞稿用卷

壹、教育專業科目

選擇題（共 40 題，每題 1 分，共 40 分）

1. 心理學家皮亞傑的認知發展階段論中，認為國中學生智能發展較屬何種時期？
(A)感覺動作期 (B)運思預備期 (C)具體運思期 (D)形式運思期
2. 臺北市教育局推動校長「教室走察與觀課」之政策，主要強調校長的何種能力？
(A)校務規劃 (B)行政領導 (C)課程領導 (D)教學設計
3. 強調「理想影響特質、理想影響行為、激勵鼓舞、智性啟發、個別關懷」等因素的領導行為是屬
(A)交易領導 (B)服務領導 (C)轉型領導 (D)學習領導
4. 依《性別平等教育法》之規定，教師知悉服務學校發生疑似校園性侵害、性騷擾或性霸凌事件者，應向學校及當地直轄市、縣（市）主管機關通報。而此種通報至遲應於幾小時內為之？
(A)8小時 (B)16小時 (C)24小時 (D)48小時
5. 下列何者是《教師法》所規定為教師的權利，同時也是教師的義務？
(A)維護學生受教權 (B)研究與進修
(C)不得洩漏學生個別資料 (D)對學校提供興革意見
6. 在教育之本質學說，學者專家指出：教育是經驗的改造與重新組織，要使經驗的意義增加，要使指揮後來經驗的能力增加，主張「教育即生活、即生長、即經驗的改造」。請問這種主張「教育即生活、即生長、即經驗的改造」之看法，出自於以下那一位學者的主張？
(A)盧梭 (B)杜威 (C)洛克 (D)康德
7. 「當教師糾正學生不當行為時，也會對其他學生產生影響效果」，此種班級經營的策略稱為？
(A)掌握全局 (B)同時處理 (C)漣漪效應 (D)月暈效應
8. 聯合國教科文組織(UNESCO)目前所倡導「學習五大支柱」概念，其中第五項支柱為？
(A)學會發展 (learning to be)
(B)學會做事 (learning to do)
(C)學會與人相處 (learning to live together)
(D)學會轉化個體與社會 (learning to transform oneself and society)
9. 佐藤學於「學校再生的哲學：學習共同體與活動系統」中提及，作為學習共同體的學校，是受三個哲學原理所引導，下列何者為非？
(A)公共性 (public) (B)民主主義 (democracy)
(C)公正性 (equity) (D)卓越性 (excellence)

【請翻背面繼續作答】

10. CIPP模式認為教育決定有四種類型，其中，「設計教學程序的決定」係對應於何種評鑑？
(A)背景評鑑 (B)輸入評鑑 (C)過程評鑑 (D)成果評鑑
11. 「如果測驗的分數是用來預測未來的表現或估計目前的實際狀況」則所採用的效度為？
(A)效標效度 (B)內容效度 (C)構念效度 (D)測量標準誤
12. 關於班級裡的獎賞和懲罰，下列敘述何者完全正確？
(A)物質性酬賞較社會性酬賞快速有效，應多加運用
(B)懲罰前要向學生說明被懲罰的理由，獎賞亦然
(C)體罰侵害學生身體自主權，僅能於必要時為之
(D)懲罰會傷害學生，有教育愛的教師應秉持零懲罰的信念
13. 下列案例敘述，何者較貼近教師期望原理（比馬龍效應）？
(A)小姜的學業成績表現優異，許老師認為他是一位品學兼優的好學生
(B)王老師讓愛講話的小華與安靜的小宇坐左右座，小華講話的頻率因而降低
(C)黃老師公開讚賞小明的圖畫，使得小明更努力精進，最後得到美展第一名
(D)洪老師意外抓到小華說髒話並公開責難，三天後班上掀起一股講髒話風
14. 全美師資培育認可審議會（The National Council for Accreditation of Teacher Education，簡稱NCATE）所發展出的「專業發展學校」指標共包括五個向度，下列何者為非？
(A)分享權力(sharing power)
(B)學習社群(learning community)
(C)夥伴協作(collaboration)
(D)績效責任與品質保證(accountability and quality)
15. 根據心理學家Kohlberg所提出的認知發展理論：三期六階段理論，針對以下的描述「一個人有其個人的人生哲學，對是非善惡有其獨特的看法」，請判斷前述的道德認知發展是處於以下的哪一個階段？
(A)法治觀念導向 (B)順從權威導向 (C)價值觀念建立 (D)避罰服從導向
16. 下列何者較屬「質性」教學觀察技術？
(A)Flanders互動分析 (B)在工作中 (at task)
(C)教師移動 (movement patterns) (D)軼事記錄 (anecdotal records)
17. 在彼得·聖吉(Peter Senge)的「五項修鍊」中，其中的「團隊學習」應該要從下列那種作法開始？
(A)辨識彼此搭配的行動能力 (B)深度匯談
(C)建立共同目標 (D)改善自我心智模式

18. 對於自閉症者的人際相處，以下哪些措施可以增進其適應社會環境的能力（甲）教師逐步引導其溝通與說話方式（乙）同儕的瞭解與接納（丙）提供其練習與表現的機會（丁）在固定情境中練習。
- (A)甲乙 (B)乙丙丁 (C)甲丙 (D)甲乙丙丁
19. 某間快速減班學校的校長，考量學校校地開闊，教育部又有經費供各校申請辦理體驗學習，是以主張結合社區辦理假日體驗學校，請問這是採用SWOT分析中的那一種研擬策略？
- (A)S-O (B)S-T (C)W-O (D)W-T
20. 法令與行政行為應有安定性，不能朝令夕改，這是行政程序中的那一個原則？
- (A)依法行政原則 (B)信賴保護原則 (C)法律優位原則 (D)明確性原則
21. 心理學家Wallas指出：無論是科學或藝術的創造，整體上都經過四個階段歷程期，針對以下的描述「經過長期準備，個人對某方面的知識經驗已有了相當基礎」，請判斷前述的描述情況是哪一個時期的最佳寫照？
- (A)準備期 (B)潛伏期 (C)豁朗期 (D)驗證期
22. 教育心理學家Wittrock指出：學習是一種產出的歷程，做筆記是一種學習的重要「產出性活動」，在不同的認知處理歷程，有相當不同效果。請判斷下列那一種不屬於其指出做筆記「產出性活動」的認知處理歷程？
- (A)腦力激盪 (B)建立外在聯結 (C)引導注意 (D)建立內在聯結
23. 社會及行為科學所測量的觀察值有以下四種尺度。請判斷「智商」的測量是屬於以下哪一種測量尺度？
- (A)類別尺度 (B)等級尺度 (C)等距尺度 (D)等比尺度
24. 在教育的本質研究，在我國最早將教育二字連用的「得天下英才而教育之」語句，奠定了「教育」是教導養育，循循善誘，培育陶融之義。請問「得天下英才而教育之」之語句，出自於以下那一本經典？
- (A)禮記學記篇 (B)孟子盡心篇 (C)荀子修心篇 (D)春秋繁露
25. 教育行政學者Griffiths指出：混沌理論是一種發現潛藏脈絡與非秩序結構的管理，值得應用到學校領導工作的推動。請判斷下列那一種不屬於其指出「混沌理論」中的混沌現象？
- (A)蝴蝶效應 (B)隨機震撼 (C)奇異吸子 (D)煮蛙理論
26. 教育行政學者Luneburg & Ornstein 指出：學校具有鬆散組織結構的特性，面對學校組織變革的壓力調適，涉及多種因素的干擾與影響。請判斷下列那一種不屬於其指出「變革壓力」的因素？
- (A)政府的干涉 (B)學校歷史 (C)技術和知識 (D)社會的價值

【請翻背面繼續作答】

27. 下列有關華德福學校(Waldorfschule)或華德福教育的敘述，那一個是正確的？
- (A)在大部分的德語地區(包括德國及瑞士)，華德福學校屬於完全獨立的私立教育機構，鮮少有政府支持公立學校進行華德福教育實驗
- (B)基人性哲學主張人係由身、心兩個部分組成，故其教育特別著重身心的和諧發展
- (C)因主張開放教育與自然教育，並不刻意強調倫理和紀律的教育
- (D)重視「律動」(Eurythmie)的教育，係結合音樂、語言、戲劇、體育等不同形式的教育，也是美育的綜合形式
28. 在諮商輔導的理論中，自我防衛機轉可幫助個人因應焦慮與避免自我被焦慮所淹沒，請問「將個人無法接受的慾望或衝動，歸到別人身上去」，這樣的表現是哪一種自我防衛方式？
- (A)否認作用 (B)壓抑作用 (C)反向作用 (D)投射作用
29. 以下那一種教室領導技巧，最能幫助教師在教室與生活中，能扮演好各種不同角色，以適應不同狀況，以符合當時情境的需求？
- (A)情緒控制 (B)敏銳洞察 (C)人際關係 (D)角色轉換
30. 下列何者非班級經營所使用「我訊息」(I-Message)策略的組成？
- (A)行為 (B)傾聽 (C)後果 (D)感受
31. 認為人類社會面臨許多危機，諸如環境污染、能源短缺、資源分配不均、核子毀滅、種族紛爭、科技誤用等重大問題，若不在教育中予以面對，並試圖解決這些問題，則人類必將走向毀滅之途。此種教育主張較偏向下列何項教育理論？
- (A)永恆主義 (B)重建主義 (C)精粹主義 (D)教育人文主義
32. 下列有關十九世紀著名思想家斯賓塞(H. Spencer, 1820-1903)教育學說的敘述，何者是正確的？
- (A)其教育理論被稱為教育的「開展說」
- (B)與養育子女活動有關的知識，其價值最高
- (C)認為教育的實施，不外是將科學知識傳授給受教者，以實現完美的生活
- (D)與歷史、語文等有關的知識，可幫助我們認識自己，故其價值比那些與群體有關的知識(與社會、政治有關者)要更高
33. 「課程是學生和知識、內容、教材、科目等事物及環境交互作用產生的結果」此為把課程當作什麼的主張？
- (A)學科 (B)經驗 (C)目標 (D)計畫

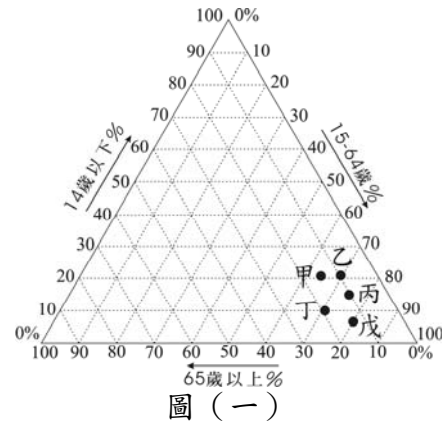
34. 文化複製是指教育的哪一種功能？
(A)消極性功能 (B)積極性功能 (C)正義功能 (D)多元化功能
35. 在諮商輔導的理論中，下列何者是阿德勒治療學派的理論重心，也是其視之為所有人類的正常心態，也是人類奮鬥向上的原動力。
(A)自信心 (B)自卑感 (C)自尊 (D)自大
36. 請問下列何者對於「Key competencies」的描述不正確？
(A)此種能力能使人擁有適應新環境和社會變遷的自學能力
(B)指使用知識的能力
(C)指涉範圍包括問題解決能力和團隊溝通精神
(D)由英國在1988年的《教育改革法案》(Education Reform Act)中提出
37. 班級中若有學生被診斷為「學習障礙」，下列何者是教師應有的認知與概念？
(A)因其學習動機低落、不肯用功，去資源班好了
(B)成績太差的人就是學習障礙
(C)只要經過輔導，學習障礙就會消除了
(D)該生有學習上某方面的困難，需要更多的協助與調整
38. 下列何者不是非正式組織的正功能？
(A)提供情緒發洩管道 (B)提供角色交換機會
(C)解決角色衝突問題 (D)對正式組織產生制衡作用
39. 在教育社會學研究，學者專家指出：角色的期待與要求是最佳的師生互動模式。請判斷以下何種「角色的期待與要求」模式，最能滿足「角色的期待與要求」的最佳師生互動模式？
(A)權威模式 (B)理性模式 (C)交易模式 (D)成就模式
40. 教育心理學家Sternberg指出：「最基本的訊息處理」就是把感覺訊息轉換為內在表徵，進而在記憶中組織訊息是認知學習的重要訓練。請判斷下列那一種不屬於其指出「最基本的訊息處理」必須具備的成份？
(A)獲得成份 (B)聯結成份 (C)應用成份 (D)保持成份

貳、地理專業科目

選擇題（共 40 題，每題 1.5 分，共 60 分）

41. 彰化縣沿海的大城每年稻作春耕插秧日期較八卦山腳的員林晚約二~三星期，影響兩地春耕插秧日期差異的最主要因素為何？
(A)緯度高低 (B)地勢高低 (C)日照時數長短 (D)東北季風強弱
42. 下列哪條臺灣溪流的命名與河流感潮現象的關係最密切？
(A)急水溪 (B)鹽水溪 (C)澀水坑溪 (D)食水坑溪
43. 土壤剖面開挖之後，為使剖面正對日光，以利觀察剖面與拍照，必須事先計算剖面開挖時間與方向。土壤調查小組於今年3月20日12:00到達宜蘭平原預定開挖剖面的農地，並在兩小時半完成工作。請問：此土壤剖面所面向的大致方位為何？
(A)東北 (B)西南 (C)西北 (D)東南
44. 臺南科學工業園區的設立，除了為平衡臺灣南北經濟發展的落差外，最主要著眼於當地的哪項區位優勢？
(A)勞力充沛工資低廉 (B)有廣大土地可供規劃開發
(C)地近高雄港製成品出口便利 (D)亞洲蔬菜中心有生物科技基礎
45. 在五、六月梅雨季，當梅雨鋒面向南移動而籠罩到某處，會使得臺北的天氣略顯涼意，故有「未食五月粽，破裘不願放」俗諺產生。請問：此「某處」最可能是下列何處？
(A)日本九州島 (B)琉球群島 (C)臺灣北部海面 (D)臺中地區
46. 下列大地座標系統表示法中，何者為臺灣二度分帶座標的正確表示法？
(A)247342mE，2652335mN (B)247.342mE，2652.335mN
(C)120.97388E，23.975725N (D)120°58' 25.97E，23°58' 32.6N
47. 臺灣近年在東北季風盛行期間，在開闊河灘地與缺少植被之溪流南岸，常出現沙塵害事件。此種沙塵害事件最可能發生在下列何地？
(A)竹北 (B)南屯 (C)崙背 (D)麻豆

48. 圖（一）為臺灣五個鄉鎮市區的人口年齡結構圖
三角：臺北市 大安區、新竹市 東區、彰化縣 員林鎮、臺南市 南化區與花蓮市。臺南市 南化區
由於青壯年多外出工作，隔代教養問題較大，試
問：該地人口年齡結構最可能落在圖中哪個位
置？

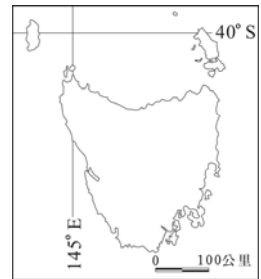


- (A) 甲 (B) 乙
(C) 丙 (D) 戊
49. 基隆河中上游的淺丘區在過去以栽種水旱作物、植菁、燒炭、種茶、採藥等多元
維生方式。形塑此種多元經濟生活的最主要因素為何？
(A) 降水豐沛，物產豐富 (B) 交通便利，貨暢其流
(C) 勤儉致富，蔚為風氣 (D) 地勢崎嶇，耕地局限
50. 某人目前在研究清代中葉苗栗地區的原、漢互動關係，探討當地原、漢的接觸、
交流、衝突、涵化、競爭與合作的歷史演變過程。某人目前所做這個研究議題，
較適合以哪種地理學研究觀點來進行研究？
(A) 人地關係 (B) 空間分析 (C) 區域複合體 (D) 系統科學論
51. 以下關於地圖儲存模式中，網格模式與向量模式的敘述何者正確？
(A) 向量模式的分析效果較佳
(B) 疊圖分析多使用網格模式
(C) 向量模式多用於地形起伏連續變化的地圖
(D) 網格模式多用於需要有精準區位分析的社會現象
52. 中國政府近年積極落實沿海、沿江、沿邊和沿橋的「四沿」發展策略，此策略的
制訂與下列何種區域經濟概念的關係最密切？
(A) 成長中心 (B) 經濟全球化 (C) 經濟在地化 (D) 區域專業化
53. 下列哪兩個地區具有與挪威類似的氣候與海岸地形，均是現今世界重要的鮭魚供
應地？
(A) 西班牙、葡萄牙 (B) 阿拉斯加、智利南部
(C) 日本 北海道、韓國東岸 (D) 紐西蘭 北島、澳洲西南部

【請翻背面繼續作答】

54. 請根據比例尺與經緯度推斷，圖（二）指的是哪個島嶼？

- (A) 智利 復活節島
- (B) 美國 夏威夷島
- (C) 斐濟國 斐濟島
- (D) 澳洲 塔斯馬尼亞島



圖（二）

55. 南洋多數國家地處熱帶，在被殖民時期，執政當局在首府附近山地建立夏都。下列哪些國家的首都因位居板塊擠壓帶上，有隆起山地可作為避暑夏都？(甲)汶萊；(乙)印尼；(丙)菲律賓；(丁)新加坡；(戊)馬來西亞。

- (A) 甲乙
- (B) 乙丙
- (C) 丙丁
- (D) 丁戊

56. MSN (The Microsoft Network) 是由微軟公司在1995年成立的網路通訊服務提供商。微軟公司在2011年完成對Skype的收購後，2013年再將MSN併入Skype，該企業這種作法是屬於何種經營策略？

- (A) 垂直整合
- (B) 水平整合
- (C) 水平分工
- (D) 多角化經營

57. 「國民經濟規模的擴大速率，可以使用哪項數據來衡量？

(1)GDP增加率 (2)經濟成長率 (3)人口社會增加率 (4)貨幣供給增加率」。

請問上述地理考題「違反」了哪項命題原則？

- (A) 選項具有誘答性
- (B) 選項的涵義重疊
- (C) 試題出現連鎖性
- (D) 涉及變動的地理事實

58. 熱帶游耕必須採取放火燒林，以及不斷遷徙更換耕地以維持地力平衡。其使地力「迅速」耗盡的最主要原因為何？

- (A) 土壤侵蝕作用旺盛
- (B) 缺乏施用有機堆肥
- (C) 土壤養分快速被農作物汲取
- (D) 植物灰燼比起腐植質易分解而消耗

59. 對土壤剖面化育層的用詞，下列何者的意涵與其他三者不同？

- (A) C層
- (B) 母質層
- (C) 風化層
- (D) 硬岩層





60. (甲)外洗扇；(乙)冰磧平原；(丙)冰緣黃土等三種冰河作用堆積區，由上游到下游的排列是：

- (A) 甲乙丙
- (B) 甲丙乙
- (C) 乙丙甲
- (D) 乙甲丙

61. 下表為某水井的地層剖面資料。請問：該剖面中地下水含水層（aquifers）的總厚度是多少？

深度	0-2*	2~27	27~40	40~65	65~85	85~100
地層性質	表土層	礫石層	泥層	中砂層	粗砂層	黏土層

*單位：m，“2”表示位於地面下2m處，以此類推；水井之靜水位為地面下5m。

- (A)25m (B)27m (C)67m (D)85m
62. 某學者將彰化平原東南部在清末的傳統民居型態分為：
- | | | | | |
|---|---|---|---|---|
| (甲) | (乙) | (丙) | (丁) | (甲)崙丘地上的團塊式庄落
(乙)井字、串字的網狀庄落
(丙)線性深長院落安排庄落
(丁)線性小型三合院連結庄落 |
|  |  |  |  | |
- 請問：(丙)型態之傳統聚落的產生與當地何種歷史過程關係最密切？
- (A)較早開發 (B)市街發展
(C)分類械鬥 (D)拓墾方式
63. 臺灣名列世界第18大缺水國，科學家長期追蹤發現：臺灣總降雨量並未減少，但淹水與乾旱發生時間越來越密集。下列現象何者正確？
- (A)臺灣北部總雨量增加，南部總雨量減少
(B)臺灣北部總雨量減少，南部總雨量增加
(C)臺灣西部總雨量增加，東部總雨量減少
(D)臺灣西部總雨量減少，東部總雨量增加
64. 2009年莫拉克風災造成高雄 小林村滅村，其主要原因是？
- (A)地震、超級大豪雨 (B)海水倒灌、超級大豪雨
(C)地層下陷、超級大豪雨 (D)深層崩壞、超級大豪雨
65. 臺灣面積雖只有3.6萬平方公里，但生物多樣性卻十分豐富。主要受哪些因素影響？(甲)海陸位置；(乙)地理隔離；(丙)地形起伏；(丁)降雨差異；(戊)外來種引入。正確應為？
- (A)甲乙丙 (B)乙丙丁戊 (C)甲丙丁戊 (D)甲乙丙丁戊

【請翻背面繼續作答】

66. 臺灣漁船「廣大興28號」2013年5月遭菲律賓公務船槍擊事件，造成船長死亡，引發國人和世界媒體同聲譴責。請問：我國發生船難地點是在？
 (A)呂宋島 (B)巴丹群島 (C)民答那峨島 (D)維薩亞斯群島
67. 臺灣隨經濟發展進步，國民所得提高，工業漸改以產品設計與技術研發為重心。臺灣自創品牌如：hTc手機、Giant捷安特腳踏車、Asus、acer電腦等產品皆享譽國際。請問：這些臺灣自創品牌產品能為臺灣帶來哪些益處？
 (A)加入WTO，獲得免關稅優惠 (B)加入聯合國，取得正式國家資格
 (C)增加市場勞動力，爭取勞工權利 (D)增加市場競爭力，取得更多利潤
68. 瞭解中國交通必須從五大節點看：武漢、北京、上海、廣州、成渝這5個「交通大節點」，正好是5大航空輻射圈，全國籠罩在「半日航空時區」，而且每個輻射圈都有國際航線，飛向世界每一個角落！請問：「中國交通5大節點」中，哪一城市是中國「五小時生活圈」中心？
 (A)北京 (B)上海 (C)武漢 (D)成渝
69. 臺商偉益是全世界最大女鞋商Payless的最大五金供應商，平均每三個美國人，就有一个人穿的鞋子配件是偉益做的。但近年來，原本在中國勞力密集導向的中國 臺商，紛轉進越南找尋生路，盼能再創第二春。臺商為何無法擺脫游牧的宿命？
 (A)中國轉向鎖國政策 (B)中國調整工資結構
 (C)越南漢化政策奏效 (D)美國金融風暴連累
70. 我們知道：湖泊的消失會影響當地的氣候變化。鹹海從世界第四大湖縮小只剩原面積的10%，對當地氣候變化下列敘述何者正確？
 (A)夏溫提高，冬溫下降，生長季變長 (B)春溫下降，秋溫提高，生長季縮短
 (C)秋溫下降，春溫提高，生長季變長 (D)夏溫提高，冬溫下降，生長季縮短
71. 圖(三)為建築師肯恩·歐道斯 (Koen Olthuis) 創舉，在2007年被《TIME》雜誌選為全球具有影響力的人物，更引發東京、杜拜、首爾等城市的興趣，紛紛委託他為城市規劃。請問：「它」的設計與建築主要目的為何？



圖(三)

- (A)與海爭地，築壩抗洪
 (B)造島計畫，海上船屋
 (C)建築博覽，方舟計畫
 (D)對抗暖化，與海共生

72. 圖(四)為與那國島位置圖。「與那國島」為日本國最西端的島嶼，距離蘇澳僅111公里，直飛到花蓮只需25分鐘，距離東京卻有2,112公里之遙。請問：「與那國島」經度位置應為？

(A)東經125度
(B)東經123度
(C)東經121度
(D)東經120度



圖(四)

73. 中美地峽七國地處低緯，屬熱帶氣候區，但東岸多雨，為溼熱的雨林氣候；西岸乾濕分明，多屬熱帶莽原氣候。造成此種氣候差異的最主要原因是什麼？

(A)海陸性質的差異
(B)行星風系盛行方向
(C)兩岸洋流性質不同
(D)東岸多熱帶氣旋形成

74. 「在澳洲 新南威爾斯內陸大草原的東南外環一帶，平均農場規模約800公頃；農民用一半的土地栽培小麥，其餘的土地則用以栽培飼料作物、牧草或休耕；平均每農場飼養綿羊1,500頭。」該地區的農業活動屬於哪一種類型？

(A)商業性混合農業
(B)商業性企業欄牧
(C)商業性穀物農業
(D)商業性圈牧養殖

75. 圖(五)為Jolin多年前收到聖誕賀卡上面的郵戳，由此可以知「它」應該是從「聖誕老公公故鄉」寄來的！關於「聖誕老公公故鄉」敘述下列何者正確？

(A)地熱、小木屋芬蘭浴聞名
(B)「勇敢傳說」維京人故鄉
(C)IKEA家具、紙漿出口國
(D)Nokia揚名、教育競爭力高



圖(五)

76. 若臺灣高科技產品想要打入歐盟市場，除克服歐盟課徵關稅，還需有配額限制。欲突破重重限制最好的方法之一是：採取所謂「策略聯盟」！請問：臺商到下列歐洲哪一國家投資設廠與之「策略聯盟」，能以最經濟、最快速方式將產品打入歐盟市場？

(A)挪威 (B)波蘭 (C)土耳其 (D)馬其頓

【請翻背面繼續作答】

77. 為了維護地球環境，近年來人類訂定不少規章，以抑止環境生態的耗損，包括（甲）京都議定書；（乙）蒙特婁議定書；（丙）氣候變化綱要公約；（丁）二十一世紀行動綱領。以上四種規章中，何者屬於地球全面性：包括經濟、環境、社會三面向追求動態平衡，以確保人類的「永續發展」？
- (A)甲 (B)乙 (C)丙 (D)丁
78. 水庫興建雖有多功能效益，但也有許多不良影響。下列敘述何者「錯誤」？
- (A)造成河口平原縮小，海岸線侵蝕後退
(B)破壞和改變流域生態系統功能和結構
(C)誘發與水體有關的若干傳染病
(D)下游河道堆積、海口鹽分增加
79. （甲）赤道；（乙）南回歸線；（丙）本初經線；（丁）北緯66.5度經線。上述四線長度由長到短排列，正確者是？
- (A)甲>乙>丙>丁 (B)甲>丙>乙>丁
(C)甲>乙>丁>丙 (D)丙>甲>乙>丁
80. 金大花家對面開立許多「早餐店」、「雞排店」、「飲料攤」等各式商店，附近捷運便利，也有傳統市場或量販商場提供各種服務。請問：分析這些商店設置，應屬工業區位中哪項因素驅使最大？
- (A)原料 (B)交通 (C)市場 (D)資金

【試題結束】