

臺北市 102 學年度市立國民中學正式教師聯合甄選

公 民 科 題 本

請不要翻到次頁！

讀完本頁的說明，聽從監試委員的指示才開始作答

※請先確認你的答案卡、准考證與座位號碼是否一致無誤。

請閱讀以下測驗作答說明

測驗說明：

這是臺北市 102 學年度市立國民中學正式教師聯合甄選公民科題本，題本採雙面印刷，共 80 題，每題只有一個正確或最佳的答案。測驗時間共 100 分鐘，作答開始與結束請聽從監試委員的指示。

注意事項：

1. 所有試題均為四選一的選擇題，答錯不倒扣。
2. 依試場規則規定，答案卡上不得書寫姓名及任何標記。故意污損答案卡、損壞試題本，或在答案卡上顯示自己身份者，該科測驗不予計分。

作答方式：

請依照題意從四個選項中選出一個正確或最佳的答案，並用 2B 鉛筆在答案卡上相應的位置劃記，請務必將選項塗黑、塗滿。如果需要修改答案，請使用橡皮擦擦拭乾淨，重新塗黑答案。

請聽到鈴（鐘）聲響後再翻頁作答

壹、教育專業科目

選擇題（共 40 題，每題 1 分，共 40 分）

1. 心理學家皮亞傑的認知發展階段論中，認為國中學生智能發展較屬何種時期？
(A)感覺動作期 (B)運思預備期 (C)具體運思期 (D)形式運思期
2. 臺北市教育局推動校長「教室走察與觀課」之政策，主要強調校長的何種能力？
(A)校務規劃 (B)行政領導 (C)課程領導 (D)教學設計
3. 強調「理想影響特質、理想影響行為、激勵鼓舞、智性啟發、個別關懷」等因素的領導行為是屬
(A)交易領導 (B)服務領導 (C)轉型領導 (D)學習領導
4. 依《性別平等教育法》之規定，教師知悉服務學校發生疑似校園性侵害、性騷擾或性霸凌事件者，應向學校及當地直轄市、縣（市）主管機關通報。而此種通報至遲應於幾小時內為之？
(A)8小時 (B)16小時 (C)24小時 (D)48小時
5. 下列何者是《教師法》所規定為教師的權利，同時也是教師的義務？
(A)維護學生受教權 (B)研究與進修
(C)不得洩漏學生個別資料 (D)對學校提供興革意見
6. 在教育之本質學說，學者專家指出：教育是經驗的改造與重新組織，要使經驗的意義增加，要使指揮後來經驗的能力增加，主張「教育即生活、即生長、即經驗的改造」。請問這種主張「教育即生活、即生長、即經驗的改造」之看法，出自於以下那一位學者的主張？
(A)盧梭 (B)杜威 (C)洛克 (D)康德
7. 「當教師糾正學生不當行為時，也會對其他學生產生影響效果」，此種班級經營的策略稱為？
(A)掌握全局 (B)同時處理 (C)漣漪效應 (D)月暈效應
8. 聯合國教科文組織(UNESCO)目前所倡導「學習五大支柱」概念，其中第五項支柱為？
(A)學會發展 (learning to be)
(B)學會做事 (learning to do)
(C)學會與人相處 (learning to live together)
(D)學會轉化個體與社會 (learning to transform oneself and society)
9. 佐藤學於「學校再生的哲學：學習共同體與活動系統」中提及，作為學習共同體的學校，是受三個哲學原理所引導，下列何者為非？
(A)公共性 (public) (B)民主主義 (democracy)
(C)公正性 (equity) (D)卓越性 (excellence)

10. CIPP模式認為教育決定有四種類型，其中，「設計教學程序的決定」係對應於何種評鑑？
(A)背景評鑑 (B)輸入評鑑 (C)過程評鑑 (D)成果評鑑
11. 「如果測驗的分數是用來預測未來的表現或估計目前的實際狀況」則所採用的效度為？
(A)效標效度 (B)內容效度 (C)構念效度 (D)測量標準誤
12. 關於班級裡的獎賞和懲罰，下列敘述何者完全正確？
(A)物質性酬賞較社會性酬賞快速有效，應多加運用
(B)懲罰前要向學生說明被懲罰的理由，獎賞亦然
(C)體罰侵害學生身體自主權，僅能於必要時為之
(D)懲罰會傷害學生，有教育愛的教師應秉持零懲罰的信念
13. 下列案例敘述，何者較貼近教師期望原理（比馬龍效應）？
(A)小姜的學業成績表現優異，許老師認為他是一位品學兼優的好學生
(B)王老師讓愛講話的小華與安靜的小宇坐左右座，小華講話的頻率因而降低
(C)黃老師公開讚賞小明的圖畫，使得小明更努力精進，最後得到美展第一名
(D)洪老師意外抓到小華說髒話並公開責難，三天後班上掀起一股講髒話風
14. 全美師資培育認可審議會（The National Council for Accreditation of Teacher Education，簡稱NCATE）所發展出的「專業發展學校」指標共包括五個向度，下列何者為非？
(A)分享權力(sharing power)
(B)學習社群(learning community)
(C)夥伴協作(collaboration)
(D)績效責任與品質保證(accountability and quality)
15. 根據心理學家Kohlberg所提出的認知發展理論：三期六階段理論，針對以下的描述「一個人有其個人的人生哲學，對是非善惡有其獨特的看法」，請判斷前述的道德認知發展是處於以下的哪一個階段？
(A)法治觀念導向 (B)順從權威導向 (C)價值觀念建立 (D)避罰服從導向
16. 下列何者較屬「質性」教學觀察技術？
(A)Flanders互動分析 (B)在工作中 (at task)
(C)教師移動 (movement patterns) (D)軼事記錄 (anecdotal records)
17. 在彼得·聖吉(Peter Senge)的「五項修鍊」中，其中的「團隊學習」應該要從下列那種作法開始？
(A)辨識彼此搭配的行動能力 (B)深度匯談
(C)建立共同目標 (D)改善自我心智模式

【請翻背面繼續作答】

18. 對於自閉症者的人際相處，以下哪些措施可以增進其適應社會環境的能力（甲）教師逐步引導其溝通與說話方式（乙）同儕的瞭解與接納（丙）提供其練習與表現的機會（丁）在固定情境中練習。
- (A)甲乙 (B)乙丙丁 (C)甲丙 (D)甲乙丙丁
19. 某間快速減班學校的校長，考量學校校地開闊，教育部又有經費供各校申請辦理體驗學習，是以主張結合社區辦理假日體驗學校，請問這是採用SWOT分析中的那一種研擬策略？
- (A)S-O (B)S-T (C)W-O (D)W-T
20. 法令與行政行為應有安定性，不能朝令夕改，這是行政程序中的那一個原則？
- (A)依法行政原則 (B)信賴保護原則 (C)法律優位原則 (D)明確性原則
21. 心理學家Wallas指出：無論是科學或藝術的創造，整體上都經過四個階段歷程期，針對以下的描述「經過長期準備，個人對某方面的知識經驗已有了相當基礎」，請判斷前述的描述情況是哪一個時期的最佳寫照？
- (A)準備期 (B)潛伏期 (C)豁朗期 (D)驗證期
22. 教育心理學家Wittrock指出：學習是一種產出的歷程，做筆記是一種學習的重要「產出性活動」，在不同的認知處理歷程，有相當不同效果。請判斷下列那一種不屬於其指出做筆記「產出性活動」的認知處理歷程？
- (A)腦力激盪 (B)建立外在聯結 (C)引導注意 (D)建立內在聯結
23. 社會及行為科學所測量的觀察值有以下四種尺度。請判斷「智商」的測量是屬於以下哪一種測量尺度？
- (A)類別尺度 (B)等級尺度 (C)等距尺度 (D)等比尺度
24. 在教育的本質研究，在我國最早將教育二字連用的「得天下英才而教育之」語句，奠定了「教育」是教導養育，循循善誘，培育陶融之義。請問「得天下英才而教育之」之語句，出自於以下那一本經典？
- (A)禮記學記篇 (B)孟子盡心篇 (C)荀子修心篇 (D)春秋繁露
25. 教育行政學者Griffiths指出：混沌理論是一種發現潛藏脈絡與非秩序結構的管理，值得應用到學校領導工作的推動。請判斷下列那一種不屬於其指出「混沌理論」中的混沌現象？
- (A)蝴蝶效應 (B)隨機震撼 (C)奇異吸子 (D)煮蛙理論
26. 教育行政學者Luneburg & Ornstein 指出：學校具有鬆散組織結構的特性，面對學校組織變革的壓力調適，涉及多種因素的干擾與影響。請判斷下列那一種不屬於其指出「變革壓力」的因素？
- (A)政府的干涉 (B)學校歷史 (C)技術和知識 (D)社會的價值

27. 下列有關華德福學校(Waldorfschule)或華德福教育的敘述，那一個是正確的？
- (A)在大部分的德語地區(包括德國及瑞士)，華德福學校屬於完全獨立的私立教育機構，鮮少有政府支持公立學校進行華德福教育實驗
- (B)基人性哲學主張人係由身、心兩個部分組成，故其教育特別著重身心的和諧發展
- (C)因主張開放教育與自然教育，並不刻意強調倫理和紀律的教育
- (D)重視「律動」(Eurythmie)的教育，係結合音樂、語言、戲劇、體育等不同形式的教育，也是美育的綜合形式
28. 在諮商輔導的理論中，自我防衛機轉可幫助個人因應焦慮與避免自我被焦慮所淹沒，請問「將個人無法接受的慾望或衝動，歸到別人身上去」，這樣的表現是哪一種自我防衛方式？
- (A)否認作用 (B)壓抑作用 (C)反向作用 (D)投射作用
29. 以下那一種教室領導技巧，最能幫助教師在教室與生活中，能扮演好各種不同角色，以適應不同狀況，以符合當時情境的需求？
- (A)情緒控制 (B)敏銳洞察 (C)人際關係 (D)角色轉換
30. 下列何者非班級經營所使用「我訊息」(I-Message)策略的組成？
- (A)行為 (B)傾聽 (C)後果 (D)感受
31. 認為人類社會面臨許多危機，諸如環境污染、能源短缺、資源分配不均、核子毀滅、種族紛爭、科技誤用等重大問題，若不在教育中予以面對，並試圖解決這些問題，則人類必將走向毀滅之途。此種教育主張較偏向下列何項教育理論？
- (A)永恆主義 (B)重建主義 (C)精粹主義 (D)教育人文主義
32. 下列有關十九世紀著名思想家斯賓塞(H. Spencer, 1820-1903)教育學說的敘述，何者是正確的？
- (A)其教育理論被稱為教育的「開展說」
- (B)與養育子女活動有關的知識，其價值最高
- (C)認為教育的實施，不外是將科學知識傳授給受教者，以實現完美的生活
- (D)與歷史、語文等有關的知識，可幫助我們認識自己，故其價值比那些與群體有關的知識(與社會、政治有關者)要更高
33. 「課程是學生和知識、內容、教材、科目等事物及環境交互作用產生的結果」此為把課程當作什麼的主張？
- (A)學科 (B)經驗 (C)目標 (D)計畫

【請翻背面繼續作答】

34. 文化複製是指教育的哪一種功能？
(A)消極性功能 (B)積極性功能 (C)正義功能 (D)多元化功能
35. 在諮商輔導的理論中，下列何者是阿德勒治療學派的理論重心，也是其視之為所有人類的正常心態，也是人類奮鬥向上的原動力。
(A)自信心 (B)自卑感 (C)自尊 (D)自大
36. 請問下列何者對於「Key competencies」的描述不正確？
(A)此種能力能使人擁有適應新環境和社會變遷的自學能力
(B)指使用知識的能力
(C)指涉範圍包括問題解決能力和團隊溝通精神
(D)由英國在1988年的《教育改革法案》(Education Reform Act)中提出
37. 班級中若有學生被診斷為「學習障礙」，下列何者是教師應有的認知與概念？
(A)因其學習動機低落、不肯用功，去資源班好了
(B)成績太差的人就是學習障礙
(C)只要經過輔導，學習障礙就會消除了
(D)該生有學習上某方面的困難，需要更多的協助與調整
38. 下列何者不是非正式組織的正功能？
(A)提供情緒發洩管道 (B)提供角色交換機會
(C)解決角色衝突問題 (D)對正式組織產生制衡作用
39. 在教育社會學研究，學者專家指出：角色的期待與要求是最佳的師生互動模式。請判斷以下何種「角色的期待與要求」模式，最能滿足「角色的期待與要求」的最佳師生互動模式？
(A)權威模式 (B)理性模式 (C)交易模式 (D)成就模式
40. 教育心理學家Sternberg指出：「最基本的訊息處理」就是把感覺訊息轉換為內在表徵，進而在記憶中組織訊息是認知學習的重要訓練。請判斷下列那一種不屬於其指出「最基本的訊息處理」必須具備的成份？
(A)獲得成份 (B)聯結成份 (C)應用成份 (D)保持成份

貳、公民專業科目

選擇題（共 40 題，每題 1.5 分，共 60 分）

41. 中華民國憲法規定：「以上各條列舉之自由權利，除為防止妨礙他人自由、避免緊急危難、維持社會秩序，或增進公共利益所必要者外，不得以法律限制之。」在此條文中，「必要」與「以法律限制之」兩個詞彙，分別代表哪兩個法律原則？
(A)平等原則；法律保留原則 (B)比例原則；法律優越原則
(C)比例原則；法律保留原則 (D)平等原則；法律優越原則
42. 保安處分與刑罰不同，刑罰的目的在於制裁，而保安處分的目的則為防衛及行為矯正，防止將來犯罪之危險。然而拘束人身的保安處分，是以剝奪受處分人之人身自由為處分手段。依此判斷下列何者應屬於保安處分？
(甲)強制治療 (乙)緩起訴 (丙)禁戒處分 (丁)羈押禁見 (戊)驅逐出境
(A)甲乙丙 (B)甲丙戊 (C)乙丙丁 (D)乙丁戊
43. 日月潭違規船屋拆除期限將至，假如政府要作成日月潭違規船屋拆除的行政處分會議時。若依我國行政程序法規定，下列敘述何者正確？
(甲)調查證據時以書面告知、到場陳述意見
(乙)聽證程序只是要讓不利的船屋業者陳述意見而已
(丙)有權決定違規船屋拆除的公務人員，一律不准與違規船屋業者接觸
(丁)違規船屋業者得依政府資訊公開法，向政府申請提供認定船屋業者違規的主管法令與行政指導的文書
(A)甲乙 (B)甲丁 (C)乙丙 (D)丙丁
44. 刑事警察局與東南亞國家掃蕩跨國詐騙集團，將臺籍的上百名詐欺犯以包機押返；臺中地院審結三案共26人，其中17人被判緩刑、8人易科罰金，僅1人被判刑1年。這個判決除讓檢方詫異，也與社會期待有極大落差。由於先前才發生菲國將14名臺灣籍詐欺嫌犯引渡至大陸，大陸認為臺灣對詐欺犯量刑過輕，不願將人犯遣返臺灣，引發外交爭議；經法務部多次派員折衝，保證會具體求刑，大陸才首肯將人犯押返臺灣，法務部擔心法院輕判，會影響兩岸合作打擊犯罪。檢警首長並呼籲承審法官考量跨境犯罪具有集團性、結合高科技設備、境外合作偵辦案件調查取證之不易等因素，以及造成民眾財產鉅大損害與危害國家形象等情形，審慎科刑。依上所述判斷，檢方希望法官可以「審慎科刑」，應是基於下列哪一項原則？
(A)審檢分立原則 (B)罪刑法定原則 (C)從舊從輕原則 (D)罪責相當原則

【請翻背面繼續作答】

45. 上公民與社會課時，安安做了表格資料的整理如下：

消費上的特性 供給上的特性	獨享性 (rivalry, 敵對性)	共享性 (non-rivalry, 無敵對性)
排他性 (exclusive)	甲	乙
無排他性 (non-exclusive)	丙	丁

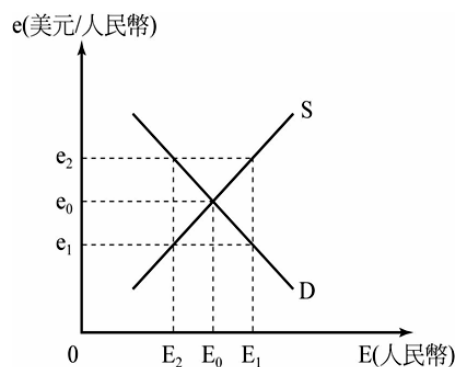
廠商最痛恨的盜版行為，所被複製的「資訊」，如果確定受到著作權的保護後，該財貨性質應是在上表資料中的哪一區塊？

- (A) 甲 (B) 乙 (C) 丙 (D) 丁
46. 下列各國所研議或採行的政策中，哪些是屬於鼓勵出口、限制進口的貿易保護政策？
- (甲) 俄羅斯計畫全面降低關稅
(乙) 歐盟國家為酪農提供牛奶的出口補貼
(丙) 英國提供台灣人民六個月的免簽證入境優惠措施
(丁) 日本修改檢疫規定，打算全面提高食品的衛生標準
(戊) 美國商務部研議將對中國的鋼鐵加徵高達90%的反傾銷稅
- (A) 甲乙丁 (B) 甲丙戊 (C) 乙丙丁 (D) 乙丁戊

47. 右表是甲、乙兩國在同樣的工作天所能生產的小麥、香蕉的數量。假設其他條件不變，若兩國欲進行貿易，則其貿易條件小麥與香蕉的交換比例至少要介於多少之間，才會使貿易雙方都受益？

	甲國	乙國
小麥 (kg)	40	50
香蕉 (kg)	30	40

- (A) 1 kg小麥 ↔ 4/3 ~ 5/4 kg的香蕉
(B) 1 kg小麥 ↔ 3/4 ~ 4/5 kg的香蕉
(C) 1 kg小麥 ↔ 0.5 ~ 1 kg的香蕉
(D) 1 kg小麥 ↔ 1 ~ 2 kg的香蕉
48. 美國國會議員統計，紐約州各地製造業因中國廉價商品的大量湧入而嚴重受創，全州因此而失去的工作機會多達84,600個，因而建議應即時與中國討論人民幣匯率的問題。右圖表示人民幣的美元匯率，假設均衡匯率應為 e_0 ，請根據以上資料推測，美國國會議員認為美中匯率對美中貿易的影響為何？



- (A) 因人民幣被高估，建議美元應對人民幣升值，減少中國商品輸入
(B) 因人民幣被低估，建議美元應對人民幣升值，增加美國商品輸出
(C) 因人民幣被高估，有利中國向美國出口商品，美國商品需求減少，進而引起失業問題，建議美元對人民幣升值，以增加美國商品的輸出
(D) 因人民幣被低估，有利中國向美國出口商品，美國商品需求減少，進而引起失業問題，建議人民幣對美元升值，以減少中國製商品進口

49. 自二〇一一年起之「茉莉花革命」及「阿拉伯之春」民主浪潮下，獨裁政權紛紛垮台，但下列哪一個國家至今仍苦陷內戰對峙的僵局？
(A)突尼西亞 (B)利比亞 (C)葉門 (D)敘利亞
50. 依據各國國會經驗，採用下列何種選舉制度，在選後最容易出現「多黨聯合內閣」的政府形式？
(A)相對多數決制 (B)單一選區兩票並立制
(C)選擇投票制 (D)比例代表制
51. 世界衛生組織（1990）對安寧療護的定義：對一位用當今科技已無法治癒的末期病患及其家屬，提供整體性的照顧，藉著解除疼痛及其他不適之症狀，並統合心理、社會、靈性之照顧，來提昇病人及家屬的生活品質。請問：安寧療護的精神是：
(A)尊重生命 (B)社會福利 (C)民主法治 (D)社會正義
52. 教育要使人成為他自己，而改變必須先從改變教育開始…以上是「財團法人人本教育基金會」的基本理念，並認為人即目的，而不是工具，但是人必須實實在在地活在他的土地上！請問：「財團法人人本教育基金會」的性質是屬於何種團體？
(A)工作取向 (B)興趣取向 (C)利益取向 (D)關係取向
53. 照明工具的演變展現了人類的智慧，從火把→蠟燭→油燈→電燈→LED燈，各式不同的照明豐富了我們的生活。請問：上述內容是文化哪一種特徵的表現？
(A)累積性 (B)普遍性 (C)差異性 (D)未定性
54. 依據教育局安心就學溫馨輔導計畫，學生午餐補助對象資格為：
(1)低收入戶者
(2)中低收入戶者
(3)家庭突遭變故致經濟困難者。
請問：上述做法主要是為了落實哪一項理念？
(A)增進適應能力 (B)區隔特殊族群 (C)維護社會正義 (D)促進階層流動
55. 近年來，由於越來越多人知道研究結果顯示二手菸害比一手菸嚴重，菸害防制法第十五條規定各類工作場所不得吸菸。這樣的規定是屬於
(A)器物的改變帶動理念的改變 (B)制度的改變帶動器物的改變
(C)理念的改變帶動制度的改變 (D)制度的改變帶動理念的改變
56. 丹麥被譽為全世界最快樂的國家，瑪格麗特女王二世為國家元首，國家權利三分為立法、司法和行政，各部互不隸屬。丹麥議會稱為Folketing共179席。議會的最大黨提名首相人選，首相以及內閣大臣們負責政府行政部門的工作。請問：根據內容判斷，丹麥應屬於何種型態的國家？
(A)君主共和 (B)君主立憲 (C)民主獨裁 (D)民主共和

【請翻背面繼續作答】

57. 立法院院會日前三讀修正通過《會計法》部分條文，民意代表與學者報支經費有條件除罪，意圖私利則不適用。民間團體表示，總統應該要求行政院長，依規定在收到《會計法》部分條文修正案的10日內，移請立法院覆議。請問：覆議的作法符合哪項民主政治的運作原則？

- (A)權力分立 (B)均權制度 (C)司法獨立 (D)權能區分

58. 某藝人參加中醫特考因為差了0.82分落榜，她認為評分不公平，要求重新閱卷，7年來多次提起訴願和行政訴訟，最後終於在去年底被法院判決勝訴，考選部也不再上訴，請問：藝人成功取得中醫師的資格，是透過行使下列哪一項基本權利呢？

- (A)自由權 (B)平等權 (C)受益權 (D)參政權

59. 某內閣制國家國會席次共有200席，其中單一選區的名額佔60%，政黨比例代表制的名額佔40%，右表為各黨的得票情形，如果選舉制度採行並立制，則其政府具代表性的可能組合為？

政黨	A黨	B黨	C黨	D黨
選區席次	66	26	12	16
政黨票比例	40%	30%	10%	20%

- (甲) A黨單獨組閣 (乙) A黨+B黨組成聯合政府
(丙) B黨+D黨組成聯合政府 (丁) B黨++C黨+D黨組成聯合政府。
(A)乙丙 (B)甲丙 (C)乙丁 (D)甲丁

60. 在我國，法律是由立法院透過三讀程序來制定或修正，關於三讀程序中，各讀會之內容敘述何者正確？

- (A)一讀會：法律案排入議程後，在大會逐條討論
(B)二讀會：主席朗讀標題後，即交由相關委員會審查
(C)三讀會：在大會逐條或依次討論
(D)三讀會：除非有重大瑕疵，否則僅能作文字上之修正

61. 小麗是一位國二女生，但是父母以協助家計為由不讓她正常上學，導致小麗經常多天未到校，若小麗父母堅持不讓小麗受國民教育，會有什麼樣的後果？

- (A)小麗將被強迫入學，並對父母處以刑責
(B)小麗可選擇休學，並對父母處以刑責
(C)小麗可選擇休學，並對父母處以罰鍰
(D)小麗將被強迫入學，並對父母處以罰鍰

62. 2013宜蘭綠色博覽會的主題「憶起·森呼吸」，期許所有來到武荖坑大自然森林的遊客可以享受好山、好水、好空氣與濃郁的人情氛圍，「憶起」並「一起」感受幾乎忘記的放鬆與愉悅。請問：宜蘭縣政府所舉辦的綠色博覽會活動所需的經費是由哪一個單位負責議決？

- (A)財政部 (B)立法院 (C)宜蘭縣政府 (D)宜蘭縣議會

63. 墾丁春吶音樂季結束後，15萬遊客留下上百噸垃圾，忙著環境復原的地方人士昨不禁抱怨，指民間和飯店業者只顧賺錢，卻不必為塞車、垃圾、噪音汙染和龐大警力負擔社會成本。請問：上述內容符合經濟學的哪一種觀念？

- (A)外部效果 (B)機會成本 (C)需求法則 (D)比較利益

64. 為使高速公路用路人可在不停車、不用現金與更有效率及安全環境下完成繳交通行費，高公局辦理「民間參與高速公路電子收費系統建置及營運」案(ETC)。請問：用路人繳交通行費，是政府依據何項原則所收的費用？

- (A)負擔能力原則 (B)受益原則 (C)均富原則 (D)互利原則

65. 內閣制國家的憲法，授議會以不信任投票權，亦必採行政機關以解散議會之權。因此議會如通過不信任案後，其結果不是議會解散，訴諸選民，便是內閣辭職，重行改組。請問：我國哪些中央政府機關分別等同於內閣制國家的國會與內閣？

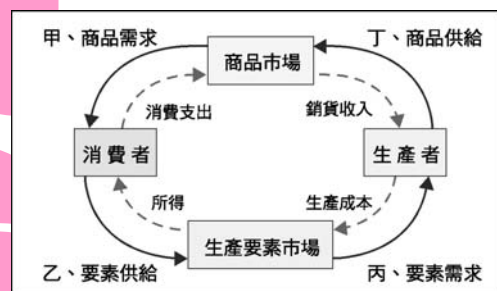
- (A)法院、總統 (B)立法院、行政院 (C)司法院、行政院 (D)行政院、立法院

66. 有關我國中央政府「行政院與立法院的關係」之敘述，下列何者正確？

- (A)行政院有向總統提出施政方針與施政報告之責
(B)立法院得向行政院院長提出不信任案
(C)立法院受行司法院監督，立法院官員有義務至司法院接受質詢
(D)立法院可對行政院提出的決算案進行審查

67. 知名便利商店決定增設咖啡販售，讓消費者更容易享受到美味便宜的咖啡。請問：便利商店的商業行為，是屬於附圖經濟活動循環簡圖中的哪一項？

- (A)甲 (B)乙
(C)丙 (D)丁



68. H7N9是一種甲型流感病毒，禽流感病毒的一個亞型，因病毒在鳥類的死亡率低，經基因交換後轉移到人類身上，成為病發期短、重症率與死亡率相對於SARS略高而引發社會注意。為避免造成四處蔓延，各國衛生單位都將H7N9列為重點觀察事項。根據上述內容判斷，最能看出下列何種現象？

- (A)國際合作 (B)貧富差距 (C)全球關連 (D)文化交流

【請翻背面繼續作答】

69. CALL IN電視節目提供民眾表達意見的空間，甚至有機會與政府官員針對公共議題進行對話。請問：這是發揮傳播媒介的（甲）功能，CALL IN節目的開播，也有助於維護人民的（乙）權。甲、乙依序應填入下列何者選項最為正確？

- (A)提供訊息、參政權 (B)教育文化、隱私權
(C)休閒娛樂、受益權 (D)監督政府、媒體接近使用權

70. 內閣制與總統制兩者的差異，下列敘述何者為是？

- (甲)前者是虛位元首；後者是實權元首
(乙)前者首相或總理由國會議員兼任；後者總統、政務官不得兼任國會議員
(丙)前者可能由民選總統直接組閣；後者由國會的多數黨組閣
(丁)前者的國會可以用質詢與立法等權來監督內閣；後者各部會的官員直接對國會負責
(戊)前者行政立法連結，施政效率較高；後者行政立法相互制衡，總統與國會多數不同政黨時，易使政府效率低落

- (A)甲乙丙 (B)甲乙戊 (C)乙丙丁 (D)丙丁戊

71. 東協擁有近6億人口，且人口結構極佳，東南亞勞動人口比重在65%以上，越南與泰國比重最高，分別有77.1%及71.7%，提供製造業充足的勞動人口。請問：以上所提的東南亞國協是屬於下列哪一種組織？

- (甲)政府性組織 (乙)全球性國際組織 (丙)非政府組織 (丁)區域性國際組織。
(A)甲乙 (B)乙丙 (C)甲丁 (D)丙丁

72~74題為題組題

櫻花蝦是幸福國鄰近海域特有的漁產，該國政府為了保護櫻花蝦資源不致因人為過度捕撈而匱乏，乃訂定管理規範並嚴格執行管制，每年6月至11月禁止捕蝦，從11月到隔年5月才可以捕撈，讓櫻花蝦有休養生息的機會。目前該國有115艘申請捕撈櫻花蝦的漁船，每艘漁船限撈9箱(每箱20公斤，共180公斤)，年產量盡量控制在1000噸以下。請依此資料回答下列各題：

72. 下列有關該國政府限捕櫻花蝦的敘述，何者正確？

- (A)由該國的管制政策，顯見其社會資源與財產權幾乎都是由政府掌握
(B)此管制主要發生在計劃經濟的社會中，且是因政府的錯誤政策所致
(C)為市場機制失調所致，但政府的管制顯然是為了要提高消費者剩餘
(D)政府是採取限量管制，漁民所捕撈數量雖減少，但其售價卻會提高

73. 下列有關櫻花蝦的財貨性質之敘述，何者正確？

- (A)消費者在市場中付費買來的櫻花蝦是純私有財
- (B)公海中的櫻花蝦是需付費且是可共享的共有財
- (C)漁民須申請才能捕撈的櫻花蝦是政府提供的公共財
- (D)經政府限量捕撈的櫻花蝦比較容易導致草原的悲歌

74. 該國政府對櫻花蝦採取限捕政策後，對該國櫻花蝦市場的影響，下列敘述何者正確？

- (A)目前的社會總剩餘會減少，但較具永續概念
- (B)使價格低於原來的均衡價格，造成超額供給
- (C)雖然生產者剩餘減少，但是消費者剩餘增加
- (D)市場上將會出現供過於求，且有搶購的現象

75～78題為題組題

報載：毒澱粉事件席捲全台，國人愛吃的肉圓被點名含毒澱粉後，消費者對肉圓望之卻步，某些被點名的賣家乾脆不賣肉圓。知名肉圓業者為了挽回品牌形象，除了自行送驗外，更將通過各項檢驗的合格證明張貼在店中，讓顧客能安心享用。針對食品安全問題，朝野已有共識要加重罰則及刑責，立委更提案審查「食品衛生管理法」修法，若致人於死最重擬祭出無期徒刑、罰款2000萬元，遏止不肖業者危害民眾健康。請依上述報載，回答下列各題：

75. 肉圓業者主動出示檢驗合格證明的作法，是想要以下列何種方式來解決市場失靈的問題？

- (A)提供完善的公共財
- (B)減少市場的自然獨佔
- (C)處理不完整財產權的爭議
- (D)避免交易雙方的資訊不完整

76. 依題文，毒澱粉事件爆發後，對國內肉圓市場所造成的影響，下列敘述何者正確？

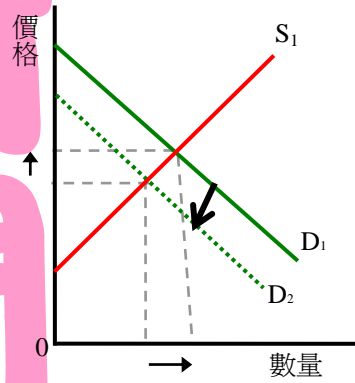
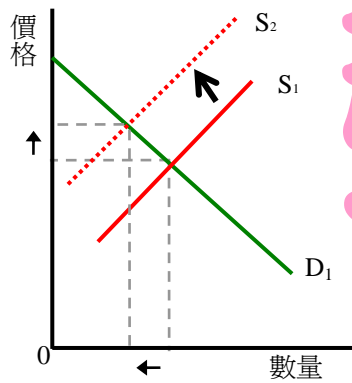
- (A)交易數量增加，交易價格下跌
- (B)交易數量減少，交易價格下跌
- (C)交易數量不確定增或減，但交易價格下跌
- (D)交易數量減少，交易價格則不確定漲或跌

【請翻背面繼續作答】

77. 在不考慮其他條件的情況下，針對毒澱粉事件對於肉圓市場所產生的效果，應是指下列何者之圖示部分？(圖示中的 S_1 是指肉圓市場的供給線， S_2 則是涵蓋將成本轉嫁社會後的供給線， D_1 是指肉圓市場的需求線， D_2 則是涵蓋未付費卻享受效益後的需求線)

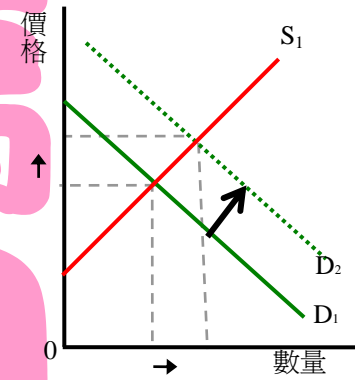
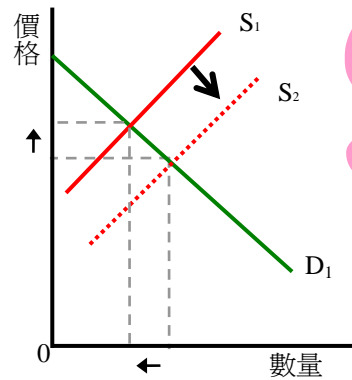
(A)社會福利減少(外部成本)

(B)社會福利減少(外部效益)



(C)社會福利增加(外部效益)

(D)社會福利增加(外部成本)



78. 政府對此事件祭出加重罰則的措施，是採用下列何種方式來解決市場失靈的問題？

(A)降低交易成本

(B)外部成本內部化

(C)提供完善公共財

(D)減少市場的自然獨占

79~80題為題組題

家住新竹19歲未婚的富二代志明，某日帶著小他兩歲的女友一同到新北市板橋區的中古汽車行，女友看中一輛中古的進口車，經志明與車行業務員議價後以60萬元成交，業務員告知要先付一成訂金，餘款則可以辦理貸款。志明於是當場與他簽約並支付6萬元，還將自己的身分證、健保卡等證件交給了業務員。過了一週，業務員告知志明說「銀行只願意貸款6成」，志明因此要求解約，但業務員卻說不能解約，反而要他選購較便宜的車子。請依上述資料，回答下列各題：

79. 依照我國現行法律，關於志明與業務員簽訂之買賣契約的敘述，下列何者正確？
- (A)因雙方已完成契約之簽訂，且已交付訂金，故契約有效
 - (B)志明已滿18歲，具完全責任能力，訂契約的法律行為有效
 - (C)志明尚未支付全額價金，因此可以在付清尾款前隨時提出解約
 - (D)《民法》的成年是20歲，志明未經法定代理人同意，此契約無效
80. 若志明的父母決定尋求法律途徑與這家中古車行對簿公堂，則應該到哪個「法院」、提起何種「訴訟」？
- (A)新竹地方法院、民事訴訟
 - (B)板橋地方法院、民事訴訟
 - (C)新竹地方法院、刑事訴訟
 - (D)任何地方法院、刑事訴訟

【試題結束】

新聞稿用卷